

Документ подписан простой электронной подписью
Информация о владельце:
ФИО: Дымова Светлана Сергеевна
Должность: Директор
Дата подписания: 18.10.2024 16:24:38
Уникальный программный ключ:
76dbca65a427cса8906028245af279c57b2518e5

АВТОНОМНАЯ НЕКОММЕРЧЕСКАЯ
ПРОФЕССИОНАЛЬНАЯ ОБРАЗОВАТЕЛЬНАЯ ОРГАНИЗАЦИЯ
«КОЛЛЕДЖ БИЗНЕСА И ДИЗАЙНА»



УТВЕРЖДАЮ
Директор АНПОО
«Колледж бизнеса и дизайна»
С.С. Дымова
«30» августа 2024 г.

ФОНД ОЦЕНОЧНЫХ СРЕДСТВ ПО ДИСЦИПЛИНЕ

СОО.01.11 ФИЗИКА

для специальности среднего профессионального образования
42.02.01 РЕКЛАМА
квалификация – специалист по рекламе

«Общеобразовательный цикл»
основной профессиональной образовательной программы СПО

профиль профессионального образования: социально-экономический
уровень изучения предмета: базовый

Москва, 2024

Фонд оценочных средств дисциплины СОО.01.11 Физика разработан на основании федерального государственного образовательного стандарта среднего общего образования, утвержденного приказом Министерства образования и науки Российской Федерации от 17.05.2012 года №413 (в редакции от 12.08.2022 г.), федерального государственного образовательного стандарта среднего профессионального образования по специальности 42.02.01 Реклама, утверждённого приказом Министерства просвещения Российской Федерации от 21.07.2023 года №552, учебного плана по специальности 42.02.01 Реклама, рабочей программы общеобразовательной дисциплины Физика.

Организация-разработчик: Автономная некоммерческая профессиональная образовательная организация «Колледж бизнеса и дизайна»

Фонд оценочных средств дисциплины рассмотрен на заседании Совета колледжа, протокол № 1 от 29.08.2024 г.

1.1 Планируемые результаты освоения общеобразовательной дисциплины в соответствии с ФГОС СПО и на основе ФГОС СОО

Код и наименование формируемых компетенций	Планируемые результаты освоения дисциплины	
	Общие	Дисциплинарные
ОК 01. Выбирать способы решения задач профессиональной деятельности применительно к различным контекстам	<p>В части трудового воспитания:</p> <ul style="list-style-type: none"> - готовность к труду, осознание ценности мастерства, трудолюбие; - готовность к активной деятельности технологической и социальной направленности, способность инициировать, планировать и самостоятельно выполнять такую деятельность; - интерес к различным сферам профессиональной деятельности, <p>Овладение универсальными учебными познавательными действиями:</p> <p>а) базовые логические действия:</p> <ul style="list-style-type: none"> - самостоятельно формулировать и актуализировать проблему, рассматривать ее всесторонне; - устанавливать существенный признак или основания для сравнения, классификации и обобщения; - определять цели деятельности, задавать параметры и критерии их достижения; - выявлять закономерности и противоречия в рассматриваемых явлениях; - вносить коррективы в деятельность, оценивать соответствие результатов целям, оценивать риски последствий деятельности; - развивать креативное мышление при решении жизненных проблем <p>б) базовые исследовательские действия:</p> <ul style="list-style-type: none"> - владеть навыками учебно-исследовательской и проектной деятельности, навыками разрешения проблем; - выявлять причинно-следственные связи и актуализировать задачу, выдвигать гипотезу ее решения, находить аргументы для доказательства своих утверждений, задавать параметры и критерии решения; 	<ul style="list-style-type: none"> - сформировать представления о роли и месте физики и астрономии в современной научной картине мира, о системообразующей роли физики в развитии естественных наук, техники и современных технологий, о вкладе российских и зарубежных ученых-физиков в развитие науки; понимание физической сущности наблюдаемых явлений микромира, макромира и мегамира; понимание роли астрономии в практической деятельности человека и дальнейшем научно-техническом развитии, роли физики в формировании кругозора и функциональной грамотности человека для решения практических задач; - сформировать умения решать расчетные задачи с явно заданной физической моделью, используя физические законы и принципы; на основе анализа условия задачи выбирать физическую модель, выделять физические величины и формулы, необходимые для ее решения, проводить расчеты и оценивать реальность полученного значения физической величины; решать качественные задачи, выстраивая логически непротиворечивую цепочку рассуждений с опорой на изученные законы, закономерности и физические явления; - владеть основополагающими физическими понятиями и величинами, характеризующими физические процессы

	<ul style="list-style-type: none"> - анализировать полученные в ходе решения задачи результаты, критически оценивать их достоверность, прогнозировать изменение в новых условиях; - уметь переносить знания в познавательную и практическую области жизнедеятельности; - уметь интегрировать знания из разных предметных областей; - выдвигать новые идеи, предлагать оригинальные подходы и решения; - способность их использования в познавательной и социальной практике 	<p>(связанными с механическим движением, взаимодействием тел, механическими колебаниями и волнами; атомно-молекулярным строением вещества, тепловыми процессами; электрическим и магнитным полями, электрическим током, электромагнитными колебаниями и волнами; оптическими явлениями; квантовыми явлениями, строением атома и атомного ядра, радиоактивностью); владение основополагающими астрономическими понятиями, позволяющими характеризовать процессы, происходящие на звездах, в звездных системах, в межгалактической среде; движение небесных тел, эволюцию звезд и Вселенной;</p> <ul style="list-style-type: none"> - владеть закономерностями, законами и теориями (закон всемирного тяготения, I, II и III законы Ньютона, закон сохранения механической энергии, закон сохранения импульса, принцип суперпозиции сил, принцип равноправности инерциальных систем отсчета; молекулярно-кинетическую теорию строения вещества, газовые законы, первый закон термодинамики; закон сохранения электрического заряда, закон Кулона, закон Ома для участка цепи, закон Ома для полной электрической цепи, закон Джоуля - Ленца, закон электромагнитной индукции, закон сохранения энергии, закон прямолинейного распространения света, закон отражения света, закон преломления света, закон сохранения энергии, закон сохранения импульса, закон сохранения электрического заряда, закон сохранения массового числа, постулаты
--	--	---

		Бора, закон радиоактивного распада); уверенное использование законов и закономерностей при анализе физических явлений и процессов
ОК 02.Использовать современные средства поиска, анализа и интерпретации информации, и информационные технологии для выполнения задач профессиональной деятельности	<p>В области ценности научного познания:</p> <ul style="list-style-type: none"> - сформированность мировоззрения, соответствующего современному уровню развития науки и общественной практики, основанного на диалоге культур, способствующего осознанию своего места в поликультурном мире; - совершенствование языковой и читательской культуры как средства взаимодействия между людьми и познания мира; - осознание ценности научной деятельности, готовность осуществлять проектную и исследовательскую деятельность индивидуально и в группе; <p>Овладение универсальными учебными познавательными действиями:</p> <p>в) работа с информацией:</p> <ul style="list-style-type: none"> - владеть навыками получения информации из источников разных типов, самостоятельно осуществлять поиск, анализ, систематизацию и интерпретацию информации различных видов и форм представления; - создавать тексты в различных форматах с учетом назначения информации и целевой аудитории, выбирая оптимальную форму представления и визуализации; - оценивать достоверность, легитимность информации, ее соответствие правовым и морально-этическим нормам; - использовать средства информационных и коммуникационных технологий в решении когнитивных, коммуникативных и организационных задач с соблюдением требований эргономики, техники безопасности, гигиены, ресурсосбережения, правовых и этических норм, норм информационной безопасности; - владеть навыками распознавания и защиты информации, информационной безопасности личности 	<ul style="list-style-type: none"> - уметь учитывать границы применения изученных физических моделей: материальная точка, инерциальная система отсчета, идеальный газ; модели строения газов, жидкостей и твердых тел, точечный электрический заряд, ядерная модель атома, нуклонная модель атомного ядра при решении физических задач - уметь формировать собственную позицию по отношению к физической информации, получаемой из разных источников, умений использовать цифровые технологии для поиска, структурирования, интерпретации и представления учебной и научно-популярной информации; развитие умений критического анализа получаемой информации

<p>ОК 03. Планировать и реализовывать собственное профессиональное и личностное развитие, предпринимательскую деятельность в профессиональной сфере, использовать знания по финансовой грамотности в различных жизненных ситуациях</p>	<p>В области духовно-нравственного воспитания: -- сформированность нравственного сознания, этического поведения; - способность оценивать ситуацию и принимать осознанные решения, ориентируясь на морально-нравственные нормы и ценности; - осознание личного вклада в построение устойчивого будущего; - ответственное отношение к своим родителям и (или) другим членам семьи, созданию семьи на основе осознанного принятия ценностей семейной жизни в соответствии с традициями народов России; Овладение универсальными регулятивными действиями: а) самоорганизация: - самостоятельно осуществлять познавательную деятельность, выявлять проблемы, ставить и формулировать собственные задачи в образовательной деятельности и жизненных ситуациях; - самостоятельно составлять план решения проблемы с учетом имеющихся ресурсов, собственных возможностей и предпочтений; - давать оценку новым ситуациям; способствовать формированию и проявлению широкой эрудиции в разных областях знаний, постоянно повышать свой образовательный и культурный уровень; б) самоконтроль: использовать приемы рефлексии для оценки ситуации, выбора верного решения; - уметь оценивать риски и своевременно принимать решения по их снижению; в) эмоциональный интеллект, предполагающий сформированность: внутренней мотивации, включающей стремление к достижению цели и успеху, оптимизм, инициативность, умение действовать, исходя из своих возможностей; - эмпатии, включающей способность понимать эмоциональное состояние других, учитывать его при осуществлении коммуникации, способность к сочувствию и сопереживанию;</p>	<p>- владеть основными методами научного познания, используемыми в физике: проводить прямые и косвенные измерения физических величин, выбирая оптимальный способ измерения и используя известные методы оценки погрешностей измерений, проводить исследование зависимостей физических величин с использованием прямых измерений, объяснять полученные результаты, используя физические теории, законы и понятия, и делать выводы; соблюдать правила безопасного труда при проведении исследований в рамках учебного эксперимента и учебно-исследовательской деятельности с использованием цифровых измерительных устройств и лабораторного оборудования; сформированность представлений о методах получения научных астрономических знаний; - овладеть (сформировать представления) правилами записи физических формул рельефно-точечной системы обозначений Л. Брайля (для слепых и слабовидящих обучающихся)</p>
--	--	--

	- социальных навыков, включающих способность выстраивать отношения с другими людьми, заботиться, проявлять интерес и разрешать конфликты	
ОК04.Эффективно взаимодействовать и работать в коллективе и команде	<p>- готовность и способность к образованию и саморазвитию, самостоятельности и самоопределению;</p> <p>- овладение навыками учебно-исследовательской, проектной и социальной деятельности;</p> <p>Овладение универсальными коммуникативными действиями:</p> <p>б) совместная деятельность:</p> <p>- понимать и использовать преимущества командной и индивидуальной работы;</p> <p>- принимать цели совместной деятельности, организовывать и координировать действия по ее достижению: составлять план действий, распределять роли с учетом мнений участников обсуждать результаты совместной работы;</p> <p>- координировать и выполнять работу в условиях реального, виртуального и комбинированного взаимодействия;</p> <p>- осуществлять позитивное стратегическое поведение в различных ситуациях, проявлять творчество и воображение, быть инициативным</p> <p>Овладение универсальными регулятивными действиями:</p> <p>г) принятие себя и других людей:</p> <p>- принимать мотивы и аргументы других людей при анализе результатов деятельности;</p> <p>- признавать свое право и право других людей на ошибки;</p> <p>- развивать способность понимать мир с позиции другого человека</p>	- овладеть умениями работать в группе с выполнением различных социальных ролей, планировать работу группы, рационально распределять деятельность в нестандартных ситуациях, адекватно оценивать вклад каждого из участников группы в решение рассматриваемой проблемы
ОК 05. Осуществлять устную и письменную коммуникацию на государственном языке Российской Федерации с учетом особенностей социального и	<p>В области эстетического воспитания:</p> <p>- эстетическое отношение к миру, включая эстетику научного творчества, присущего физической науке;</p> <p>- способность воспринимать различные виды искусства, традиции и творчество своего и других народов, ощущать эмоциональное воздействие искусства;</p> <p>- убежденность в значимости для личности и общества отечественного и мирового искусства, этнических культурных традиций и народного творчества;</p>	- уметь распознавать физические явления (процессы) и объяснять их на основе изученных законов: равномерное и равноускоренное прямолинейное движение, свободное падение тел, движение по окружности, инерция, взаимодействие тел, колебательное движение, резонанс, волновое движение; диффузия, броуновское движение, строение жидкостей

<p>культурного контекста</p>	<p>- готовность к самовыражению в разных видах искусства, стремление проявлять качества творческой личности; Овладение универсальными коммуникативными действиями: а) общение: - осуществлять коммуникации во всех сферах жизни; - распознавать невербальные средства общения, понимать значение социальных знаков, распознавать предпосылки конфликтных ситуаций и смягчать конфликты; - развернуто и логично излагать свою точку зрения с использованием языковых средств</p>	<p>и твердых тел, изменение объема тел при нагревании (охлаждении), тепловое равновесие, испарение, конденсация, плавление, кристаллизация, кипение, влажность воздуха, связь средней кинетической энергии теплового движения молекул с абсолютной температурой, повышение давления газа при его нагревании в закрытом сосуде, связь между параметрами состояния газа в изопроцессах; электризация тел, взаимодействие зарядов, нагревание проводника с током, взаимодействие магнитов, электромагнитная индукция, действие магнитного поля на проводник с током и движущийся заряд, электромагнитные колебания и волны, прямолинейное распространение света, отражение, преломление, интерференция, дифракция и поляризация света, дисперсия света; фотоэлектрический эффект, световое давление, возникновение линейчатого спектра атома водорода, естественная и искусственная радиоактивность</p>
<p>ОК 07. Содействовать сохранению окружающей среды, ресурсосбережению, применять знания об изменении климата, принципы бережливого производства, эффективно действовать в чрезвычайных ситуациях</p>	<p>В области экологического воспитания: - сформированность экологической культуры, понимание влияния социально-экономических процессов на состояние природной и социальной среды, осознание глобального характера экологических проблем; - планирование и осуществление действий в окружающей среде на основе знания целей устойчивого развития человечества; активное неприятие действий, приносящих вред окружающей среде; - умение прогнозировать неблагоприятные экологические последствия предпринимаемых действий, предотвращать их;</p>	<p>- сформировать умения применять полученные знания для объяснения условий протекания физических явлений в природе и для принятия практических решений в повседневной жизни для обеспечения безопасности при обращении с бытовыми приборами и техническими устройствами, сохранения здоровья и соблюдения норм экологического поведения в окружающей среде; понимание необходимости применения достижений физики и технологий для рационального природопользования</p>

	- расширение опыта деятельности экологической направленности на основе знаний по физике	
--	---	--

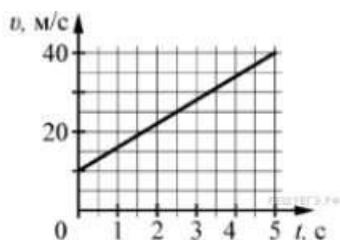
1.2 Оценочные материалы для проведения промежуточной аттестации обучающихся по дисциплине

Коды контролируемых компетенций: ОК 01, ОК 02, ОК 03, ОК 04, ОК 05, ОК 07

Форма контроля: зачет с оценкой

Запишите краткое решение задачи и выберите букву правильного ответа

1.



На графике приведена зависимость скорости тела от времени при прямолинейном движении. Определите по графику ускорение тела.

- А. 6 м/с^2
- Б. 8 м/с^2
- В. 15 м/с^2
- Г. 20 м/с^2

2. Автомобиль массой 1000 кг движется с постоянной по модулю скоростью по выпуклому мосту. Автомобиль действует на мост в верхней его точке с силой $F = 9000 \text{ Н}$. Сила, с которой мост действует на автомобиль, равна

- А) 1000 Н и направлена вертикально вверх
- Б) $19\,000 \text{ Н}$ и направлена вертикально вниз
- В) 9000 Н и направлена вертикально вниз
- Г) 9000 Н и направлена вертикально вверх

3. С балкона с высоты 5 м бросают мяч в горизонтальном направлении. Начальная скорость мяча 7 м/с , его масса $0,1 \text{ кг}$. Через 2 с после броска импульс мяча приблизительно равен

- А) $0 \text{ кг} \cdot \text{м/с}$
- Б) $2,1 \text{ кг} \cdot \text{м/с}$
- В) $0,7 \text{ кг} \cdot \text{м/с}$
- Г) $1,4 \text{ кг} \cdot \text{м/с}$

4. В каких телах — твёрдых, жидких или газообразных — происходит диффузия? А) только в жидких Б) только в твёрдых В) только в газообразных Г) в твёрдых, жидких и газообразных

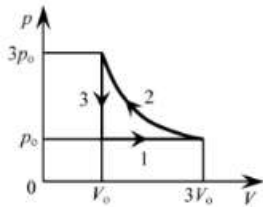
5. Сколько молекул содержится в капле воды массой $0,3 \text{ г}$?

- А. 10^{23}
- Б. 10^{22}
- В. $3 \cdot 10^{22}$
- Г. $6 \cdot 10^{22}$

6. Как изменится давление разреженного одноатомного газа, если при увеличении концентрации молекул газа в 3 раза его абсолютная температура увеличится в 2 раза?

- А) увеличится в 6 раз
- Б) увеличится в 2 раза
- В) уменьшится в 6 раз
- Г) останется без изменений

7.



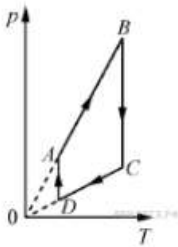
На pV -диаграмме отображена последовательность трёх процессов ($1 \rightarrow 2 \rightarrow 3$) изменения состояния 2 моль идеального газа. Какова эта последовательность процессов в газе?

- А) расширение \rightarrow нагревание \rightarrow охлаждение
- Б) расширение \rightarrow охлаждение \rightarrow сжатие при постоянной температуре
- В) нагревание \rightarrow сжатие при постоянной температуре \rightarrow охлаждение
- Г) нагревание \rightarrow расширение \rightarrow сжатие

8. Относительная влажность воздуха в закрытом сосуде 30%. Какой станет относительная влажность, если объём сосуда при неизменной температуре уменьшить в 3 раза?

- А) 60% Б) 90% В) 120% Г) 100%

9.



На рисунке представлен график циклического процесса, проведённого с одноатомным идеальным газом. На каком из участков внутренняя энергия газа увеличивалась? Количество вещества газа постоянно.

- А) DA ; Б) BC ; В) AB ; Г) CD

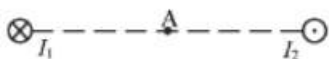
10. Силы электростатического взаимодействия между двумя точечными заряженными телами равны по модулю F . Как изменится модуль сил электростатического взаимодействия между этими телами, если заряд каждого тела увеличить в 3 раза?

- А) увеличится в 3 раза
- Б) увеличится в 9 раз
- В) уменьшится в 9 раз
- Г) уменьшится в 3 раза

11. Как изменится величина заряда, прошедшего через поперечное сечение проводника, если сила тока уменьшится в 2 раза, а время протекания тока в проводнике увеличится в 2 раза?

- А) не изменится
- Б) увеличится в 4 раза
- В) увеличится в 2 раза
- Г) уменьшится в 4 раза

12.



Магнитное поле $\vec{B} = \vec{B}_1 + \vec{B}_2$ создано в точке A двумя параллельными длинными проводниками с токами I_1 и I_2 , расположенными перпендикулярно плоскости чертежа. Векторы \vec{B}_1 и \vec{B}_2 в точке A направлены в плоскости чертежа следующим образом:

- А) \vec{B}_1 — вниз, \vec{B}_2 — вверх
- Б) \vec{B}_1 — вверх, \vec{B}_2 — вверх

В) \vec{B}_1 — вниз, \vec{B}_2 — вниз

Г) \vec{B}_1 — вверх, \vec{B}_2 — вниз

13. Магнит выносится из алюминиевого кольца. Направление тока в кольце против часовой стрелки со стороны магнита. Каким полюсом магнит обращен к кольцу?

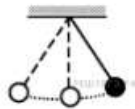
А) положительным;

Б) отрицательным;

В) северным;

Г) южным

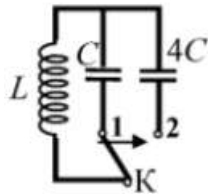
14.



Математический маятник с периодом колебаний T отклонили на небольшой угол от положения равновесия и отпустили с начальной скоростью, равной нулю (см. рисунок). Через какое время после этого потенциальная энергия маятника в первый раз вновь достигнет максимума? Сопротивлением воздуха пренебречь.

А) $\frac{1}{4}T$ Б) $\frac{1}{8}T$ В) $\frac{1}{2}T$ Г) T

15.



Как изменится период собственных электромагнитных колебаний в контуре (см. рисунок), если ключ K перевести из положения 1 в положение 2?

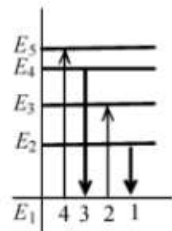
А) уменьшится в 4 раза

Б) увеличится в 4 раза

В) уменьшится в 2 раза

Г) увеличится в 2 раза

16.



На рисунке изображена диаграмма энергетических уровней атома. Какой цифрой обозначен переход, который соответствует излучению фотона с наименьшей энергией?

А) 1 Б) 2 В) 3 Г) 4

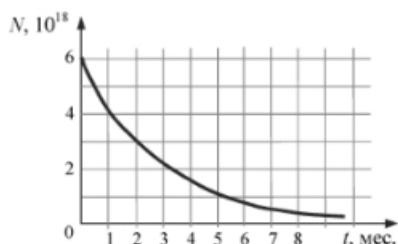
17. На рисунке представлен фрагмент Периодической системы элементов Д. И. Менделеева. Под названием каждого элемента приведены массовые числа его основных стабильных изотопов. При этом нижний индекс около массового числа указывает (в процентах) распространённость изотопа в природе.

2	II	Li 3 ЛИТИЙ 7 ₉₃ 6,7,4	Be 4 БЕРИЛЛИЙ 9 ₁₀₀	5	B БОР 11 ₈₀ 10,20
3	III	Na 11 НАТРИЙ 23 ₁₀₀	Mg 12 МАГНИЙ 24 ₇₉ 26 ₁₁ 25 ₁₀	13	Al АЛЮМИНИЙ 27 ₁₀₀
4	IV	K 19 КАЛИЙ 39 ₉₃ 41 _{6,7}	Ca 20 КАЛЬЦИЙ 40 ₉₇ 44 _{2,1}	21	Sc СКАНДИЙ 45 ₁₀₀
	V	Cu 29 МЕДЬ 63 ₆₉ 65 ₃₁	Zn 30 ЦИНК 64 ₄₉ 66 ₂₈ 68 ₁₉	31	Ga ГАЛЛИЙ 69 ₆₀ 71 ₄₀

Число протонов и число нейтронов в ядре самого распространённого изотопа галлия соответственно равно

- А) 31 протон, 38 нейтронов
- Б) 69 протонов, 31 нейтрон
- В) 38 протонов, 31 нейтрон
- Г) 38 протонов, 60 нейтронов

18.



На рисунке представлен график изменения числа ядер находящегося в пробирке радиоактивного изотопа с течением времени. Каков период полураспада этого изотопа?

- А) 1 месяц
- Б) 2 месяца
- В) 4 месяца
- Г) 8 месяцев

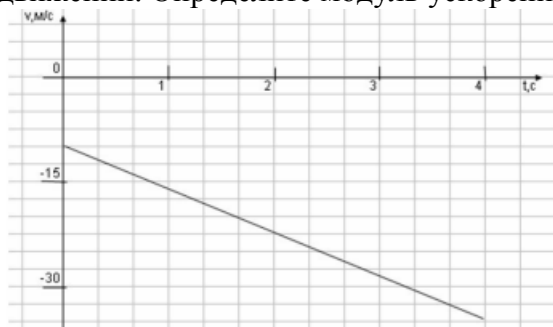
Эталон ответов

Номер задания	1	2	3	4	5	6	7	8	9	10	11	12	13	14	15	16	17	18
Ответ	А	Г	А	Г	Б	А	А	Б	В	Б	А	В	Г	В	Г	А	А	Б

2 вариант

Запишите краткое решение задачи и выберите букву правильного ответа

1. На графике приведена зависимость скорости тела от времени при прямолинейном движении. Определите модуль ускорения тела.



- А. 6,25 м/с²
- Б. 10,25 м/с²
- В. 15 м/с²
- Г. 20 м/с²

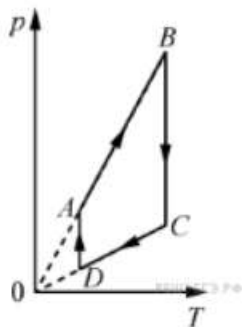
2. Если массу тела увеличить в 2 раза, то сила тяжести действующая на него...

- А. Увеличится в 4 раза.
- Б. Увеличится в 2 раза.
- В. Уменьшится в 4 раза.
- Г. Уменьшится в 2 раза.

3. Мальчик массой 30 кг, бегущий со скоростью 3 м/с, вскакивает на платформу массой 15 кг. Чему равна скорость платформы с мальчиком?

- А. 1 м/с
- Б. 2 м/с
- В. 6 м/с
- Г. 15 м/с

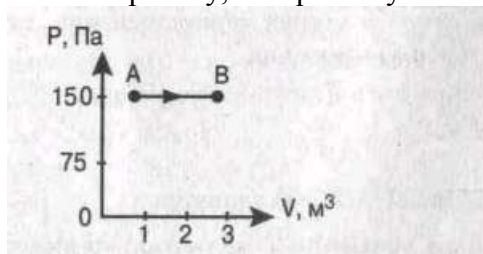
4. Диффузия в жидкости происходит быстрее при повышении температуры, потому что с повышением температуры
- увеличиваются силы взаимодействия молекул
 - увеличивается скорость теплового движения молекул
 - жидкости расширяются
 - уменьшаются силы взаимодействия молекул
5. Как изменится давление разреженного одноатомного газа, если абсолютная температура газа уменьшится в 2 раза, а концентрация молекул увеличится в 2 раза?
- увеличится в 4 раза
 - уменьшится в 4 раза
 - увеличится в 2 раза
 - не изменится
- 6.



На рисунке представлен график цикла, проведённого с одноатомным идеальным газом. На каком из участков внутренняя энергия газа уменьшалась? Количество вещества газа постоянно.

- DA
- AB
- CD
- BC

7. Найти работу, совершенную газом при переходе из состояния А в состояние В.



- 150 Дж
- 450 Дж
- 300 Дж
- 30 Дж

8. Как изменится сила взаимодействия двух точечных электрических зарядов при увеличении модуля одного из них в 3 раза? Выберите правильный ответ.

- Увеличится в 3 раза.
- Уменьшится в 3 раза.
- Увеличится в $\sqrt{3}$ раз.
- Уменьшится в $\sqrt{3}$ раз.

9. Найти заряд, создающий электрическое поле, если на расстоянии 3 см от заряда напряженность поля 0,15 МВ/м.

- $1,5 \cdot 10^{-7}$ Кл
- $3 \cdot 10^{-9}$ Кл
- $1,5 \cdot 10^{-8}$ Кл
- $3 \cdot 10^{-4}$ Кл

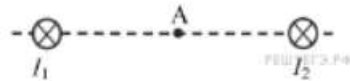
10. Определите сопротивление электрической лампы, сила тока в которой 0,5 А, при напряжении 120 В.

- 0,00417 Ом
- 60 Ом
- 140 Ом
- 240 Ом

11. Проводник с током 2 А и длиной активной части 10 см в поле с индукцией $4 \cdot 10^{-2}$ Тл расположен перпендикулярно силовым линиям магнитного поля. Определить силу, действующую на проводник.

- $4 \cdot 10^{-3}$ Н
- $2 \cdot 10^{-3}$ Н
- $8 \cdot 10^{-3}$ Н
- $8 \cdot 10^{-2}$ Н

12.



Магнитное поле $\vec{B} = \vec{B}_1 + \vec{B}_2$ создано в точке A двумя параллельными длинными проводниками с токами I_1 и I_2 , расположенными перпендикулярно плоскости чертежа.

Векторы \vec{B}_1 и \vec{B}_2 в точке A направлены в плоскости чертежа следующим образом:

А) \vec{B}_1 — вверх, \vec{B}_2 — вверх

Б) \vec{B}_1 — вверх, \vec{B}_2 — вниз

В) \vec{B}_1 — вниз, \vec{B}_2 — вниз

Г) \vec{B}_1 — вниз, \vec{B}_2 — вверх

13. Магнит вносится в алюминиевое кольцо. Направление тока в кольце против часовой стрелки со стороны магнита. Каким полюсом магнит обращен к кольцу?

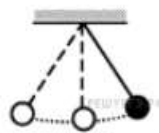
А) положительным;

Б) отрицательным;

В) северным;

Г) южным

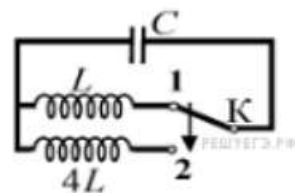
14.



Математический маятник с периодом колебаний T отклонили на небольшой угол от положения равновесия и отпустили без начальной скорости (см. рисунок). Через какое время после этого кинетическая энергия маятника в первый раз достигнет минимума? Сопротивлением воздуха пренебречь.

А) $\frac{1}{8}T$ Б) $\frac{1}{4}T$ В) $\frac{1}{16}T$ Г) $\frac{1}{2}T$

15.



Как изменится период собственных электромагнитных колебаний в контуре (см. рисунок), если ключ K перевести из положения 1 в положение 2?

А) уменьшится в 2 раза

Б) увеличится в 4 раза

В) увеличится в 2 раза

Г) уменьшится в 4 раза

16. Контур радиоприемника настроен на длину волны 50 м. Как нужно изменить индуктивность катушки колебательного контура приемника, чтобы он был настроен на волну длины 25 м?

А. Увеличить в 2 раза. Б. Увеличить в 4 раза.

В. Уменьшить в 2 раза. Г. Уменьшить в 4 раза.

17. Энергия фотонов при уменьшении длины световой волны в 2 раза:

А) уменьшится в 2 раза. Б) уменьшится в 4 раза.

В) увеличится в 2 раза. Г) увеличится в 4 раза.

18. Период полураспада некоторого радиоактивного изотопа равен 1 месяцу. За какое время число ядер этого изотопа уменьшится в 32 раза?
 А. 3 месяца Б. 4 месяца В. 5 месяцев Г. 6 месяцев

Эталон ответов

Номер задания	1	2	3	4	5	6	7	8	9	10	11	12	13	14	15	16	17	18
Ответ	А	Б	Б	Б	Г	В	Б	А	В	Г	В	Г	В	Г	В	Г	В	В

1.4. Оценочные материалы для проведения текущей аттестации и рубежного контроля обучающихся по дисциплине

Текущий контроль по теме

Введение. Физика и методы научного познания

Коды контролируемых компетенций: ОК 03, ОК 05

Форма текущего контроля: подготовка докладов с презентацией

Темы для докладов с презентацией

1. Физика — фундаментальная наука о природе.
2. Естественно-научный метод познания, его возможности и границы применимости. Эксперимент и теория в процессе познания природы.
3. Моделирование физических явлений и процессов.
4. Роль эксперимента и теории в процессе познания природы.
5. Физическая величина.
6. Физические законы.
7. Границы применимости физических законов и теорий.
8. Принцип соответствия.
9. Понятие о физической картине мира.
10. Погрешности измерений физических величин

**Текущий контроль
по разделу 1. Механика**

Тема 1.1. Основы кинематики

Коды контролируемых компетенций: ОК 01, ОК 02, ОК 04, ОК 05, ОК 07

Форма текущего контроля: проверочная работа

Вариант 1

1. Расстояние между начальной и конечной точками - это:
 А) путь Б) перемещение В) смещение Г) траектория
2. В каком из следующих случаев движение тела нельзя рассматривать как движение материальной точки?
 А) Движение Земли вокруг Солнца. Б) Движение спутника вокруг Земли.
 В) Полет самолета из Владивостока в Москву. Г) Вращение детали, обрабатываемой на станке
3. Какие из перечисленных величин являются скалярными?
 А) перемещение Б) путь В) скорость

4. Что измеряет спидометр автомобиля?

- А) ускорение; Б) модуль мгновенной скорости;
В) среднюю скорость; Г) перемещение

5. Какая единица времени является основной в Международной системе единиц?

- А) 1 час Б) 1 мин В) 1 с Г) 1 сутки.

6. Два автомобиля движутся по прямому шоссе в одном направлении. Если направить ось ОХ вдоль направления движения тел по шоссе, тогда какими будут проекции скоростей автомобилей на ось ОХ?

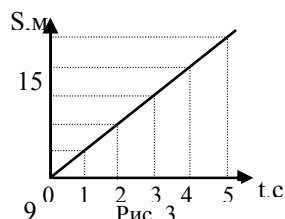
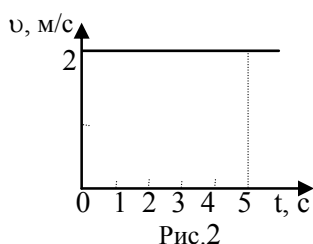
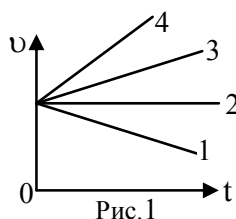
- А) обе положительные Б) обе отрицательные
В) первого - положительная, второго - отрицательная
Г) первого - отрицательная, второго – положительная

7. Автомобиль объехал Москву по кольцевой дороге, длина которой 109 км. Чему равны пройденный путь l и перемещение S автомобиля?

- А) $l = 109$ км; $S = 0$ Б) $l = 218$ км $S = 109$ км В) $l = 218$ км; $S = 0$. Г)
 $l = 109$ км; $S = 218$ км

8. Какой из графиков соответствует равномерному движению? (Рис. 1).

- А) 1 Б) 2 В) 3 Г) 4.



9. Определите путь, пройденный точкой за 5 с. (Рис. 2).

- А) 2м Б) 2,5м В) 5м Г) 10м.

10. На рисунке 3 представлен график зависимости пути, пройденного велосипедистом, от времени. Определить путь, пройденный велосипедистом за интервал времени от $t_1 = 1$ с до $t_2 = 3$ с?

- А) 9 м Б) 6 м В) 3 м. Г) 12 м

11. Если ускорение равно 2 м/с^2 , то это:

- А) равномерное движение Б) равнозамедленное движение
В) равноускоренное движение Г) прямолинейное

12. Ускорение характеризует изменение вектора скорости

- А) по величине и направлению Б) по направлению В) по величине

13. Автомобиль, движущийся прямолинейно равноускоренно, увеличил свою скорость с 3 м/с до 9 м/с за 6 секунд. С каким ускорением двигался автомобиль?

- А) 0 м/с^2 Б) 3 м/с^2 В) 2 м/с^2 Г) 1 м/с^2

14. Какую скорость приобретает автомобиль при торможении с ускорением $0,5 \text{ м/с}^2$ через 10 с от начала торможения, если начальная скорость его была равна 72 км/ч ?

- А) 15 м/с Б) 25 м/с В) 10 м/с Г) 20 м/с .

Вариант 2

1. Велосипедист движется из точки А велотрека в точку В по кривой АВ. Назовите физическую величину, которую изображает вектор АВ.

- А) путь Б) перемещение В) скорость

2. Почему при расчетах можно считать Луну материальной точкой (относительно Земли)?
 А) Луна - шар Б) Луна - спутник Земли В) Масса Луны меньше массы Земли
 Г) Расстояние от Земли до Луны во много раз больше радиуса Луны.

3. . Физические величины бывают векторными и скалярными. Какая физическая величина из перечисленных является скалярной?

- А) ускорение Б) время В) скорость Г) перемещение

4. . Какие из перечисленных ниже величин являются векторными:

- 1) путь 2) перемещение 3) скорость?
 А) 1 и 2 Б) 2 и 3 В) 2 Г) 3 и 1.

5. Основными единицами длины в СИ являются:

- А) метр Б) километр В) сантиметр Г) миллиметр

6. Два автомобиля движутся по прямому шоссе в противоположных направлениях. Если направить ось Ox вдоль направления движения первого автомобиля по шоссе, тогда какими будут проекции скоростей автомобилей на ось Ox ?

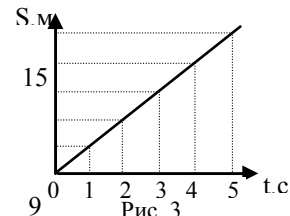
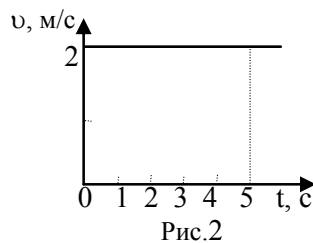
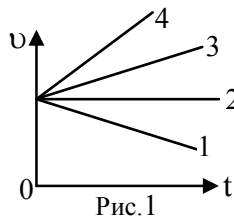
- А) обе положительные Б) обе отрицательные
 В) первого - положительная, второго - отрицательная
 Г) первого - отрицательная, второго – положительная

7. Тело, брошенное вертикально вверх, достигло наибольшей высоты 10 м и упало на землю. Чему равны путь l и перемещение S за все время его движения?

- А) $l = 20$ м, $S = 0$ м Б) $l = 10$ м, $S = 0$ В) $l = 10$ м, $S = 20$ м Г) $l = 20$ м, $S = 10$ м.

8. Какой из графиков соответствует равномерному движению? (Рис. 1).

- А) 3 Б) 4 В) 1 Г) 2



9. Определите путь, пройденный точкой за 3 с. (Рис. 2).

- А) 2м Б) 6м В) 5м Г) 1,5м.

10. На рисунке 3 представлен график зависимости пути, пройденного велосипедистом, от времени. Определить путь, пройденный велосипедистом за интервал времени от $t_1 = 2$ с до $t_2 = 4$ с?

- А) 9 м Б) 6 м В) 3 м. Г) 12 м

11. Если ускорение равно -3м/с^2 , то это:

- А) равномерное движение Б) равноускоренное движение
 В) равнозамедленное движение Г) прямолинейное движение

12. Автомобиль трогается с места и движется с возрастающей скоростью прямолинейно. Какое направление имеет вектор ускорения?

- А) ускорение равно 0 Б) направлен против движения автомобиля
 В) направлен в сторону движения автомобиля

13. Скорость автомобиля за 20с уменьшилась с 20м/с до 10м/с. С каким средним ускорением двигался автомобиль?

- А) $0,5\text{м/с}^2$ Б) 5м/с^2 В) -5м/с^2 Г) $-0,5\text{м/с}^2$

14. Определить скорость тела при торможении с ускорением $0,2\text{ м/с}^2$ через 30с от начала движения, если начальная скорость его была равна 2 м/с .

- А) -4 м Б) 4 м В) -6 м Г) 8 м .

Эталоны ответов

	1	2	3	4	5	6	7	8	9	10	11	12	13	14
1 вариант	б	г	а	б	в	а	в	б	г	б	в	а	г	б
2 вариант	б	г	б	в	а	в	а	г	б	б	в	в	г	а

Тема 1.2. Основы динамики

Коды контролируемых компетенций: ОК 01, ОК 02, ОК 04, ОК 05, ОК 07

Форма текущего контроля: проверочная работа

Вариант 1

Уровень А

1. Утверждение, что материальная точка покоится или движется равномерно и прямолинейно, если на нее не действуют другие тела или воздействие на нее других тел взаимно уравновешено,

- 1) верно при любых условиях;
- 2) верно в инерциальных системах отсчета
- 3) верно для неинерциальных систем отсчета
- 4) неверно ни в каких системах отсчета

2. Спустившись с горки, санки с мальчиком тормозят с ускорением 2 м/с^2 . Определите величину тормозящей силы, если общая масса мальчика и санок равна 45 кг

- 1) $22,5\text{ Н}$
- 2) 45 Н
- 3) 47 Н
- 4) 90 Н

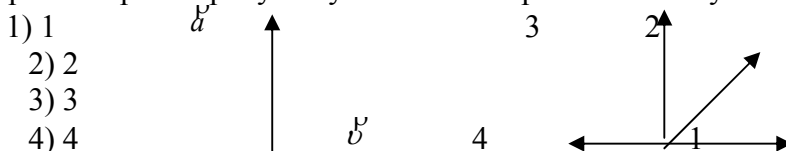
3. Земля притягивает к себе подброшенный мяч силой 3 Н . С какой силой этот мяч притягивает к себе Землю?

- 1) $0,3\text{ Н}$
- 2) 3 Н
- 3) 6 Н
- 4) 0 Н

4. Сила тяготения между двумя телами увеличится в 2 раза, если массу

- 1) каждого из тел увеличить в 2 раза
- 2) каждого из тел уменьшить в 2 раза
- 3) одного из тел увеличить в 2 раза
- 4) одного из тел уменьшить в 2 раза

5. На левом рисунке представлены векторы скорости и ускорения тела. Какой из четырех векторов на правом рисунке указывает направление импульса тела?



- 1) 1
- 2) 2
- 3) 3
- 4) 4

6. Мальчик массой 30 кг , бегущий со скоростью 3 м/с , вскакивает сзади на платформу массой 15 кг . Чему равна скорость платформы с мальчиком?

- 1) 1 м/с
- 2) 2 м/с
- 3) 6 м/с
- 4) 15 м/с

Уровень В

7. Установите соответствие между физическими законами и их формулами.

К каждой позиции первого столбца подберите соответствующую позицию второго и запишите в таблицу выбранные цифры под соответствующими буквами.

ФИЗИЧЕСКИЕ ЗАКОНЫ

- А) Закон всемирного тяготения
- Б) Второй закон Ньютона
- В) Третий закон Ньютона

ФОРМУЛЫ

- 1) $\vec{F} = m \vec{a}$
- 2) $F = kx$
- 3) $\vec{F}_1 = -\vec{F}_2$

4) $F = \frac{Gm_1 m_2}{r^2}$

5) $\sum \vec{F}_i = 0$

А	Б	В

Уровень С

8. К неподвижному телу массой 20 кг приложили постоянную силу 60 Н. Какой путь пройдет это тело за 12 с?

9. Радиус планеты Марс составляет 0,5 радиуса Земли, а масса - 0,12 массы Земли. Зная ускорение свободного падения на Земле, найдите ускорение свободного падения на Марсе. Ускорение свободного падения на поверхности Земли 10 м/с².

Вариант 2

Уровень А

1. Система отсчета связана с автомобилем. Она является инерциальной, если автомобиль

- 1) движется равномерно по прямолинейному участку шоссе
- 2) разгоняется по прямолинейному участку шоссе
- 3) движется равномерно по извилистой дороге
- 4) по инерции вкатывается на гору

2. Какие из величин (скорость, сила, ускорение, перемещение) при механическом движении всегда совпадают по направлению?

- 1) Сила и ускорение
- 2) Сила и скорость
- 3) Сила и перемещение
- 4) Ускорение и перемещение

3. Масса Луны в 81 раз меньше массы Земли. Найдите отношение силы тяготения, действующей на Луну со стороны Земли, и силы тяготения, действующей на Землю со стороны Луны

- 1) 81 2) 9 3) 3 4) 1

4. При увеличении в 3 раза расстояния между центрами шарообразных тел сила гравитационного притяжения

- 1) увеличивается в 3 раза 3) увеличивается в 9 раз
- 2) уменьшается в 3 раза 4) уменьшается в 9 раз

5. Найдите импульс легкового автомобиля массой 1,5 т, движущегося со скоростью 36 км/ч.

- 1) 15 кг · м/с 2) 54 кг · м/с 3) 15000 кг·м/с 4) 54000 кг·м/с

6. Два неупругих шара массами 6 кг и 4 кг движутся навстречу друг другу со скоростями 8 м/с и 3 м/с соответственно, направленными вдоль одной прямой. С какой скоростью они будут двигаться после абсолютно неупругого соударения

- 1) 3,6 м/с

- 2) 5 м/с
- 3) 6 м/с
- 4) 0 м/с

Уровень В

7. Установите соответствие между видами движения и их основными свойствами. К каждой позиции первого столбца подберите соответствующую позицию второго и запишите в таблицу выбранные цифры под соответствующими буквами.

ВИДЫ ДВИЖЕНИЯ

- А) Свободное падение
- Б) Движение по окружности с постоянной по модулю скоростью
- В) Реактивное движение

ОСНОВНЫЕ СВОЙСТВА

- 1) Происходит за счет отделения от тела с некоторой какой-либо его части
- 2) Движение под действием только силы тяжести
- 3) Движение, при котором ускорение в любой момент направлено к центру окружности.
- 4) Движение происходит в двух взаимно противоположных направлениях.
- 5) Движение с постоянной скоростью.

А	Б	В

Уровень С

8. Автомобиль массой 3 т, двигаясь из состояния покоя по горизонтальному пути, через 10 с достигает скорости 30 м/с. Определите силу тяги двигателя. Соппротивлением движению пренебречь.

9. Масса Луны в 80 раз меньше массы Земли, а радиус ее в 3,6 раза меньше радиуса Земли. Определите ускорение свободного падения на Луне. Ускорение свободного падения на Земле считайте 10 м/с^2 .

Тема 1.3. Законы сохранения в механике

Коды контролируемых компетенций: ОК 01, ОК 02, ОК 04, ОК 05, ОК 07

Форма текущего контроля: проверочная работа, выполнение практического задания

Вариант 1

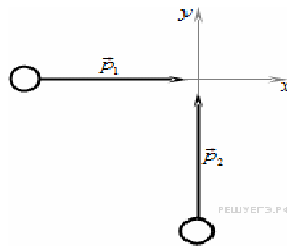
А1. Метеорит пролетает около Земли за пределами атмосферы. Как направлен вектор ускорения метеорита в тот момент, когда вектор силы гравитационного притяжения Земли перпендикулярен вектору скорости метеорита?

- 1) параллельно вектору скорости
- 2) по направлению вектора силы
- 3) по направлению вектора скорости
- 4) по направлению суммы векторов силы и скорости

А2. У поверхности Земли на космонавта действует сила тяготения 720 Н. Какая сила тяготения действует со стороны Земли на того же космонавта в космическом корабле, движущемся по круговой орбите вокруг Земли на расстоянии трех земных радиусов от ее центра?

- 1) 0 Н
- 2) 240 Н
- 3) 180 Н
- 4) 80 Н

А3. Два тела движутся по взаимно перпендикулярным пересекающимся прямым, как показано на рисунке.



Модуль импульса первого тела равен $3 \text{ кг} \cdot \text{м/с}$, а второго тела равен $4 \text{ кг} \cdot \text{м/с}$. Чему равен модуль импульса системы этих тел после их абсолютно неупругого удара?

- 1) $1 \text{ кг} \cdot \text{м/с}$ 2) $5 \text{ кг} \cdot \text{м/с}$ 3) $4 \text{ кг} \cdot \text{м/с}$ 4) $7 \text{ кг} \cdot \text{м/с}$

A4. Кубик массой m движется по гладкому столу со скоростью v и налетает на покоящийся кубик такой же массы. После удара кубики движутся как единое целое без вращений, при этом:

- 1) скорость кубиков равна v 2) импульс кубиков равен mv
 3) импульс кубиков равен $2mv$ 4) кинетическая энергия кубиков равна $\frac{mv^2}{2}$

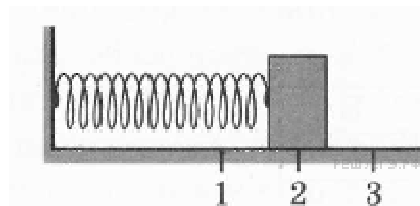
A5. Танк движется со скоростью $v_1 = 18 \text{ км/ч}$, а грузовик со скоростью $v_2 = 72 \text{ км/ч}$. Масса танка $m = 36\,000 \text{ кг}$. Отношение величины импульса танка к величине импульса грузовика равно 2,25. Масса грузовика равна

- 1) 1 500 кг 2) 3 000 кг 3) 4 000 кг 4) 8 000 кг

A6. Человек массой m прыгает с горизонтальной скоростью v на неподвижные санки массой M , стоящие на абсолютно гладком льду. Каким суммарным импульсом обладают санки с человеком в системе отсчета, связанной с землей?

- 1) 0 2) mv 3) $(m + M)v$ 4) $\frac{mMv}{(m + M)}$

B1. Груз изображенного на рисунке пружинного маятника совершает гармонические колебания между точками 1 и 3.



Как меняются кинетическая энергия груза маятника, скорость груза и жесткость пружины при движении груза маятника от точки 1 к точке 2?

Для каждой величины определите соответствующий характер изменения:

- 1) увеличивается;
 2) уменьшается;
 3) не изменяется.

Запишите в таблицу выбранные цифры для каждой физической величины. Цифры в ответе могут повторяться.

Кинетическая энергия груза маятника	Скорость груза	Жесткость пружины
?	?	?

В2. Камень брошен вертикально вверх. Изменяются ли перечисленные в первом столбце физические величины во время его движения вверх и если изменяются, то как? Установите соответствие между физическими величинами, перечисленными в первом столбце, и возможными видами их изменений, перечисленными во втором столбце. Влиянием сопротивления воздуха пренебречь.

ФИЗИЧЕСКИЕ ВЕЛИЧИНЫ

- А) скорость
- Б) ускорение
- В) кинетическая энергия
- Г) потенциальная энергия

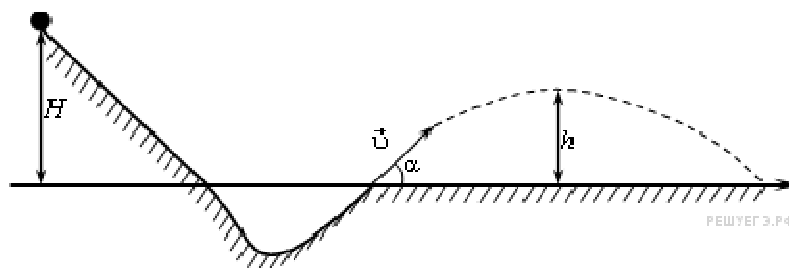
ИХ ИЗМЕНЕНИЯ

- 1) увеличится
- 2) уменьшится
- 3) не изменится

А	Б	В	Г
?	?	?	?

С1. Кусок пластилина сталкивается со скользящим навстречу по горизонтальной поверхности стола бруском и прилипает к нему. Скорости пластилина и бруска перед ударом направлены противоположно и равны $v_{пл} = 15 \text{ м/с}$ и $v_{бр} = 5 \text{ м/с}$. Масса бруска в 4 раза больше массы пластилина. Коэффициент трения скольжения между бруском и столом $\mu = 0,17$. На какое расстояние переместятся слипшиеся брусок с пластилином к моменту, когда их скорость уменьшится на 30%?

С2. При выполнении трюка «Летающий велосипедист» гонщик движется по трамплину под действием силы тяжести, начиная движение из состояния покоя с высоты H (см. рисунок).



На краю трамплина скорость гонщика направлена под углом $\alpha = 30^\circ$ к горизонту. Пролетев по воздуху, гонщик приземляется на горизонтальный стол, находящийся на той же высоте, что и край трамплина. Какова высота полета h на этом трамплине? Сопротивлением воздуха и трением пренебречь.

С3. В аттракционе человек массой 60 кг движется на тележке по рельсам и совершает «мертвую петлю» в вертикальной плоскости по круговой траектории радиусом 25 м. Какова сила давления человека на сидение тележки при скорости прохождения нижней точки 10 м/с? Ускорение свободного падения принять равным 10 м/с^2 .

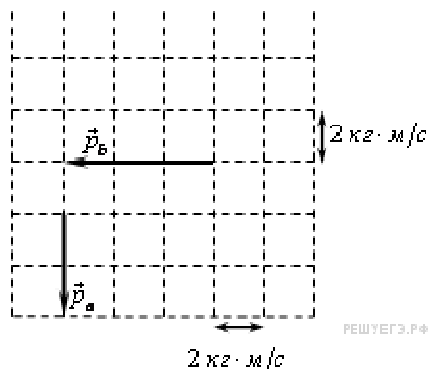
A1. Космический корабль улетает от Земли. Как направлен вектор ускорения корабля в тот момент, когда вектор силы гравитационного притяжения Земли направлен под углом 120° к вектору скорости корабля? Действие остальных тел на корабль пренебрежимо мало.

- 1) по направлению вектора скорости
- 2) по направлению вектора силы
- 3) противоположно вектору скорости
- 4) по направлению суммы векторов силы и скорости

A2. У поверхности Луны на космонавта действует сила тяготения 144 Н. Какая сила тяготения действует со стороны Луны на того же космонавта в космическом корабле, движущемся по круговой орбите вокруг Луны на расстоянии трех лунных радиусов от ее центра?

- 1) 48 Н
- 2) 36 Н
- 3) 16 Н
- 4) 0 Н

A3. Система состоит из двух тел a и b . На рисунке стрелками в заданном масштабе указаны импульсы этих тел.



Чему по модулю равен импульс всей системы?

- 1) $\sqrt{10}$ кг · м/с
- 2) $2\sqrt{11}$ кг · м/с
- 3) 10 кг · м/с
- 4) $2\sqrt{13}$ кг · м/с

A4. Маятник массой m проходит точку равновесия со скоростью v . Через половину периода колебаний он проходит точку равновесия, двигаясь в противоположном направлении с такой же по модулю скоростью v . Чему равен модуль изменения импульса маятника за это время?

- 1) mv
- 2) $-2mv$
- 3) $2mv$
- 4) 0

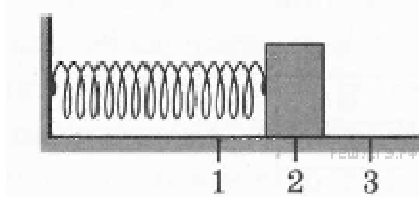
A5. Поезд движется со скоростью $v_1 = 90$ км/ч, а теплоход со скоростью $v_2 = 36$ км/ч. Масса поезда $m = 100$ тонн. Отношение модуля импульса поезда к модулю импульса теплохода равно 5. Масса теплохода равна

- 1) 20 тонн
- 2) 50 тонн
- 3) 100 тонн
- 4) 200 тонн

A6. Человек массой m прыгает с горизонтальной скоростью v относительно Земли из неподвижной лодки массой M на берег. Каков модуль суммы векторов импульсов лодки и человека относительно Земли в момент после отрыва человека от лодки? Сопротивление воды движению лодки пренебрежимо мало.

- 1) 0
- 2) mv
- 3) $(m + M)v$
- 4) $2mv$

В1. Груз изображенного на рисунке пружинного маятника совершает гармонические колебания между точками 1 и 3.



Как меняются кинетическая энергия груза маятника, скорость груза и жесткость пружины при движении груза маятника от точки 2 к точке 3?

Для каждой величины определите соответствующий характер изменения:

- 1) увеличивается;
- 2) уменьшается;
- 3) не изменяется.

Запишите в таблицу выбранные цифры для каждой физической величины. Цифры в ответе могут повторяться.

Кинетическая энергия груза маятника	Скорость груза	Жесткость пружины
?	?	?

В2. Камень свободно падает вертикально вниз. Изменяются ли перечисленные в первом столбце физические величины во время его движения вниз и если изменяются, то как? Установите соответствие между физическими величинами, перечисленными в первом столбце, и возможными видами их изменений, перечисленными во втором столбце. Влиянием сопротивления воздуха пренебречь.

ФИЗИЧЕСКИЕ ВЕЛИЧИНЫ

- А) скорость
- Б) ускорение
- В) кинетическая энергия
- Г) потенциальная энергия

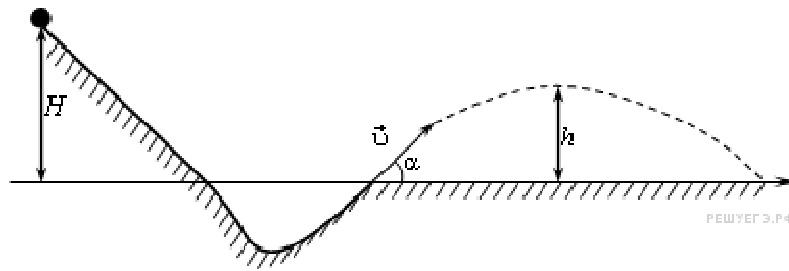
ИХ ИЗМЕНЕНИЯ

- 1) увеличится
- 2) уменьшится
- 3) не изменится

А	Б	В	Г
?	?	?	?

С1. В безветренную погоду самолет затрачивает на перелет между городами 6 часов. Если во время полета дует постоянный боковой ветер перпендикулярно линии полета, то самолет затрачивает на перелет на 9 минут больше. Найдите скорость ветра, если скорость самолета относительно воздуха постоянна и равна **328 км/ч**.

С2. При выполнении трюка «Летающий велосипедист» гонщик движется по трамплину под действием силы тяжести, начиная движение из состояния покоя с высоты H (см. рисунок).



На краю трамплина скорость гонщика направлена под углом $\alpha = 30^\circ$ к горизонту. Пролетев по воздуху, гонщик приземляется на горизонтальный стол, находящийся на той же высоте, что и край трамплина. Какова дальность полета L на этом трамплине? Соппротивлением воздуха и трением пренебречь.

С3. В аттракционе человек массой 70 кг движется на тележке по рельсам и совершает «мертвую петлю» в вертикальной плоскости. Каков радиус круговой траектории, если в верхней точке сила давления человека на сидение тележки равна 700 Н при скорости движения тележки 10 м/с? Ускорение свободного падения принять равным 10 м/с^2 .

Эталон ответов

Вариант 1

A1. -2
 $\frac{720 \text{ Н}}{9} = 80 \text{ Н}$

A2. 9

A3. -2

A4. -2

A5. -3

A6. -2

V1. Ответ: 113

V2. Ответ: 2321

C1.

Ответ: $S = 0,15 \text{ м}$.

C2. Ответ: высота подъема $h = \frac{H}{4}$.

Вариант 2

A1. -2
 $\frac{144 \text{ Н}}{9} = 16 \text{ Н}$

A2. 9

A3. -4.

A4. -3.

A5. -2

A6. -1

V1.

Ответ: 223

V2. Ответ: 1312

C1.

Ответ: $v_B = 72 \text{ км/ч} = 20 \text{ м/с}$.

C2. Ответ: дальность полета $L = H\sqrt{3}$.

Практическое задание: составьте 2-3 практико-ориентированные задачи, связанные с применением законов механики в медицинской реабилитации. Запишите их развернутое решение

**Рубежный контроль
по разделу 1. Механика**

Коды контролируемых компетенций: ОК 01, ОК 02, ОК 04, ОК 05, ОК 07

Форма рубежного контроля: тестирование

**Вопросы теста
1 вариант**

ЧАСТЬ 1

К каждому из заданий 1 – 10 даны 4 варианта ответа, из которых только один правильный. Номер этого ответа обведите кружком.

А.1. Может ли человек на эскалаторе находиться в покое относительно Земли, если эскалатор поднимается со скоростью 1 м/с?

- 1) не может ни при каких условиях
- 2) может, если стоит неподвижно на эскалаторе
- 3) может, если движется вниз по эскалатору со скоростью 1 м/с
- 4) может, если движется вверх по эскалатору со скоростью 1 м/с

А.2. На рисунке 1 представлен график зависимости скорости грузовика от времени. Ускорение грузовика в момент $t = 3$ с равно

- 1) 5 м/с^2
- 2) 10 м/с^2
- 3) 15 м/с^2
- 4) 20 м/с^2

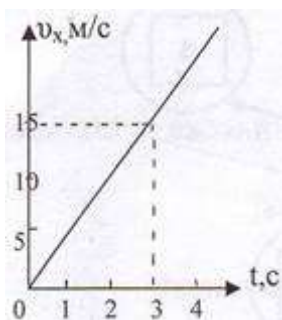


Рис.1.

А.3. Чему равна средняя скорость движения автомобиля на всем пути (в км/ч), если первую половину пути он двигался со скоростью 70 км/ч, а вторую половину пути – со скоростью 30 км/ч?

- 1) 50 км/ч
- 2) 54 км/ч
- 3) 42 км/ч
- 4) 40 км/ч

А.4. Определите путь, пройденный телом от начала движения при свободном падении. Если в конце пути оно имело скорость 20 м/с.

- 1) 50 м
- 2) 10 м
- 3) 25 м
- 4) 20 м

3) не изменяется

Запишите в таблицу выбранные цифры для каждой физической величины. Цифры в ответе могут повторяться.

Модуль ускорения камня	Кинетическая энергия камня	Горизонтальная составляющая скорости камня

В.3. На концах невесомой и нерастяжимой нити, перекинутой через блок, подвешены грузы, массы которых равны 600 г и 400 г. Определите ускорение грузов после того, как система будет предоставлена самой себе. Трением в блоке пренебречь.

м/с²

В.4. Человек и тележка движутся навстречу друг другу, причем масса человека в 2 раза больше массы тележки. Скорость человека 2 м/с, а тележки – 1 м/с. Человек вскакивает на тележку и остается на ней. Какова скорость человека вместе с тележкой?

м/с

В.5. Тело брошено вертикально вверх со скоростью 20 м/с. На какой высоте кинетическая энергия тела равна его потенциальной энергии? Соппротивлением воздуха пренебречь.

м

2 вариант

ЧАСТЬ 1

К каждому из заданий 1 – 10 даны 4 варианта ответа, из которых только один правильный. Номер этого ответа обведите кружком.

А.1. Вертолет равномерно поднимается вертикально вверх. Какова траектория движения точки на конце лопасти винта вертолета в системе отсчета, связанной с корпусом вертолета?

- 1) точка 2) прямая 3) окружность 4) винтовая линия

А.2. По графику зависимости координаты от времени, представленному на рисунке 1, определите скорость движения велосипедиста через 2 с после начала движения.

- 1) 0 м/с 2) 6 м/с 3) 3 м/с 4) 12 м/с

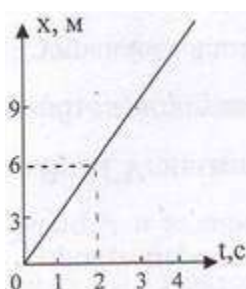


Рис. 1.

А.3. Определите путь, пройденный телом от начала движения, если оно в конце пути имело скорость 10 м/с, а ускорение постоянно и равно 1 м/с².

- 1) 15 м 2) 50 м 3) 10 м 4) 20 м

А.4. Какой путь пройдет свободно падающее тело за три секунды, если $v_0 = 0$, а $g = 10$ м/с²

- 1) 25 м 2) 20 м 3) 45 м 4) 30 м

A.5. Как изменится центростремительное ускорение тела, движущегося по окружности, если линейная скорость тела и радиус вращения тела увеличатся в 2 раза?

- 1) не изменится 2) увеличится в 2 раза
3) уменьшится в 2 раза 4) не хватает данных

A.6. Тело движется по инерции, если

- 1) на него действует постоянная сила
2) все силы скомпенсированы
3) все силы отсутствуют
4) равнодействующая всех сил постоянна по направлению

A.7. Чему равна равнодействующая двух сил по 600 Н, образующих между собой угол $\alpha = 120^\circ$?

- 1) 600 Н 2) 1000 Н 3) 300 Н 4) 1200 Н

A.8. Какова сила тяжести, действующая на тело массой 4 кг, лежащее на поверхности Земли? Радиус Земли равен 6400 км.

- 1) 37,2 Н 2) 38,2 Н 3) 39,2 Н 4) 40,2 Н

A.9. Какова потенциальная энергия сосуда с водой на высоте 80 см, если масса сосуда равна 300 г?

- 1) 240 Дж 2) 2400 Дж 3) 24 Дж 4) 2, 4 Дж

A.10. Какую работу совершит сила при удлинении пружины жесткостью 350 Н/м от 4 см до 6 см?

- 1) 0,07 Дж 2) 0,35 Дж 3) 70 Дж 4) 35 Дж

ЧАСТЬ 2

B.1. Установите соответствие между физическими величинами и формулами, по которым эти величины определяются.

Физические величины	Формулы
A) Момент силы	1) $F = ma$
B) Сила упругости	2) $M = Fl$
	3) $F_{\text{упр}} = - kx$
	4) $\vec{F}_1 = - \vec{F}_2$

К каждой позиции первого столбца подберите соответствующую позицию второго и запишите в таблицу выбранные цифры под соответствующими буквами.

A	B

B.2. Брусок скользит по наклонной плоскости вниз без трения. Что происходит при этом с его скоростью, потенциальной энергией, силой реакции наклонной плоскости?

Для каждой величины определите соответствующий характер изменения:

- 1) увеличивается
2) уменьшается
3) не изменяется

Запишите в таблицу выбранные цифры для каждой физической величины. Цифры в ответе могут повторяться.

Скорость бруска	Потенциальная энергия бруска	Сила реакции наклонной плоскости

В.3. Два бруска, связанные невесомой нерастяжимой нитью (рис.2), тянут с силой $F = 2\text{Н}$ вправо по столу. Массы брусков $m_1 = 0,2\text{ кг}$ и $m_2 = 0,3\text{ кг}$, коэффициент трения скольжения бруска по столу $\mu = 0,2$. С каким ускорением движутся бруски?

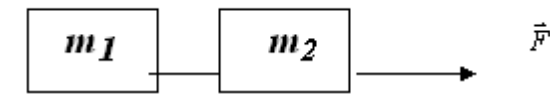


Рис.2.

В.4. С тележки массой 210 кг , движущейся горизонтально со скоростью 2 м/с , в противоположную сторону прыгает человек массой 70 кг . Какова скорость человека при прыжке, если скорость тележки стала равной 4 м/с ?

В.5. Пуля массой 10 г попадает в дерево толщиной 10 см , имея скорость 400 м/с . Пробив дерево, пуля вылетает со скоростью 200 м/с . Определите силу сопротивления, которую испытывает пуля, пробивая дерево.

Эталон ответов

вариант	A.1.	A.2.	A.3.	A.4.	A.5.	A.6.	A.7.	A.8.	A.9.	A.10.
1	3	1	3	4	2	2	3	2	4	2
2	3	3	2	3	2	2	1	3	4	2
вариант	B.1.		B.2.			B.3.	B.4.	B.5.		
1	4 2		3 2 3			2 м/с^2	1 м/с	10 м		
2	2 3		1 2 3			2 м/с^2	4 м/с	6000 Н		

Текущий контроль по разделу 2. Молекулярная физика и термодинамика

Тема 2.1. Основы молекулярно-кинетической теории

Коды контролируемых компетенций: ОК 01, ОК 02, ОК 03, ОК 04, ОК 05, ОК 07

Форма текущего контроля: выполнение практического задания, лабораторной работы

Практическое задание

Вариант 1

Выполните практические задания

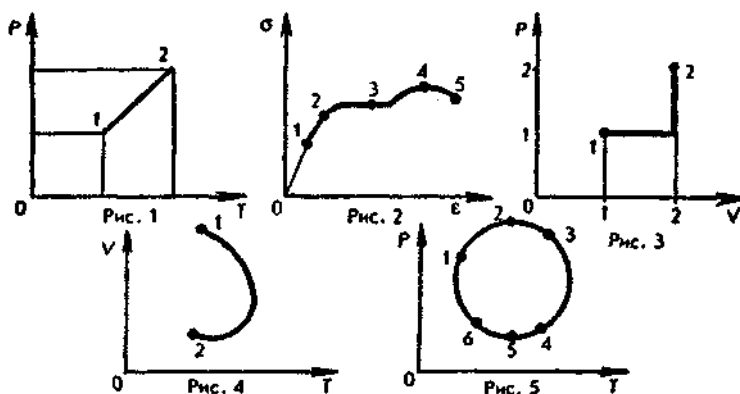
Часть А

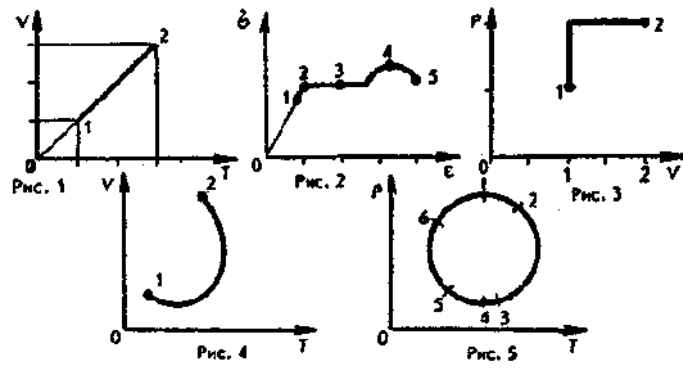
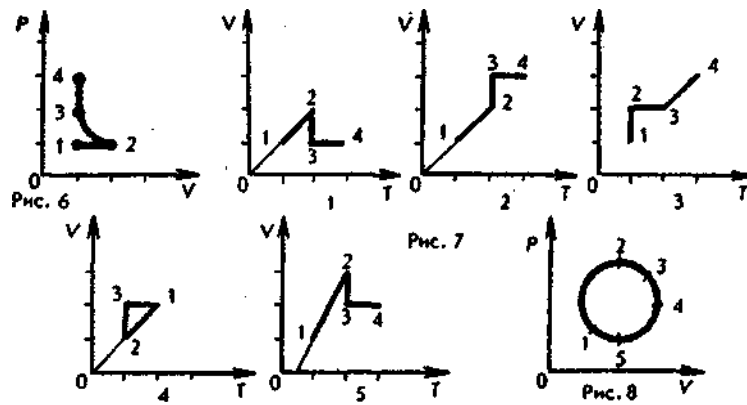
- Какое значение температуры по шкале Цельсия соответствует температуре 100 К по абсолютной шкале?
А. $+373,15\text{ }^\circ\text{С}$. Б. $-373,15\text{ }^\circ\text{С}$. В. $+273,15\text{ }^\circ\text{С}$.
Г. $-273,15\text{ }^\circ\text{С}$. Д. $+173,15\text{ }^\circ\text{С}$. Е. $-173,15\text{ }^\circ\text{С}$.
- Как изменилось давление идеального газа, если в данном объеме скорость каждой молекулы газа удвоилась, а концентрация молекул осталась без изменения?

- А. Увеличилось в 4 раза. Б. Увеличилось в 2 раза.
 В. Осталось неизменным. Г. Уменьшилось в 2 раза.
 Д. Уменьшилось в 4 раза.
3. В сосуде объемом $8,3 \text{ м}^3$ находится $0,02 \text{ кг}$ водорода при температуре 27°C . Определите его давление.
 А. 3 Па . Б. 6 Па . В. 270 Па .
 Г. 540 Па . Д. $3 \cdot 10^3 \text{ Па}$. Е. $6 \cdot 10^3 \text{ Па}$.
4. Какому процессу соответствует график, изображенный на рисунке 1?
 А. Изохорному. Б. Изотермическому.
 В. Изобарному. Г. Адиабатному.
5. При осуществлении какого изопроцесса увеличение абсолютной температуры идеального газа в 2 раза приводит к увеличению давления газа тоже в 2 раза?
 А. Изобарного. Б. Изохорного. В. Изотермического.
 Г. Адиабатного. Д. Это может быть получено при осуществлении любого процесса.
6. В двух сосудах находятся идеальные газы. Масса молекул газа в первом сосуде в 2 раза больше массы молекул газа во втором сосуде. Чему равно отношение давления газа в первом сосуде к давлению газа во втором сосуде при одинаковых значениях концентрации молекул и температуры?
 А. 4. Б. 2. В. 1. Г. $1/2$. Д. $1/4$.
7. Состояние идеального газа изменилось в соответствии с графиком, изображенным на рисунке 3. В состоянии 1 температура газа была равна T_0 . Определите температуру газа в состоянии 2.
 А. $6T_0$. Б. $5T_0$. В. $4T_0$. Г. $3T_0$. Д. $5T_0$. Е. T_0 .
8. На диаграмме $V - T$ (рис. 4) представлен график зависимости объема данной массы идеального газа от температуры. Как изменялось давление газа при переходе из состояния 1 в состояние 2?
 А. Все время увеличивалось. Б. Все время уменьшалось.
 В. Сначала увеличивалось, затем уменьшалось.
 Г. Сначала уменьшалось, затем увеличивалось.
 Д. Давление газа все время оставалось постоянным.

Часть В

9. На рисунке 5 представлена зависимость давления газа в сосуде постоянного объема от температуры. Какая точка диаграммы соответствует минимальному значению массы газа, находящегося в сосуде?
 А. 1. Б. 2. В. 3. Г. 4. Д. 5. Ж. Масса газа постоянна.
10. На диаграмме $p - V$ (рис. 6) изображен график процесса, проведенного с газом. Участок 2-3 - гипербола. Какой из графиков, представленных на рисунке 7, соответствует данному процессу?
 А. 1. Б. 2. В. 3. Г. 4. Д. 5.
11. Зависимость давления идеального газа от температуры представлена на рисунке 8. Какая точка диаграммы соответствует максимальному значению объема газа?
 А. 1. Б. 2. В. 3. Г. 4. Д. 5.



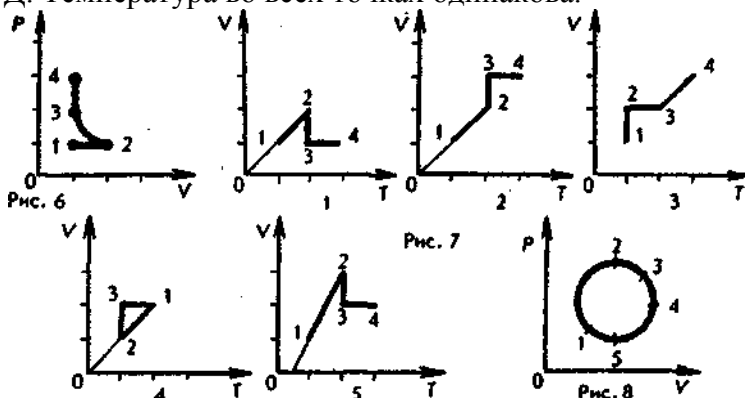


Вариант 2

1. Какое значение температуры по шкале Кельвина соответствует температуре $100\text{ }^{\circ}\text{C}$?
 А. $+373,15\text{ К}$. Б. $-373,15\text{ К}$. В. $+273,15\text{ К}$.
 Г. $-273,15\text{ К}$. Д. $+173,15\text{ К}$. Е. $-173,15\text{ К}$.
2. Как изменилось давление идеального газа, если в данном объеме скорость каждой молекулы газа уменьшилась в 2 раза, а концентрация молекул осталась без изменения?
 А. Увеличилось в 4 раза. Б. Увеличилось в 2 раза.
 В. Осталось неизменным. Г. Уменьшилось в 2 раза.
 Д. Уменьшилось в 4 раза.
3. В сосуде объемом $8,3\text{ м}^3$ находится $0,04\text{ кг}$ гелия при температуре $127\text{ }^{\circ}\text{C}$. Определите его давление.
 А. $4 \cdot 10^3\text{ Па}$. Б. $8 \cdot 10^3\text{ Па}$. В. 1270 Па .
 Г. 2540 Па . Д. 8 Па . Е. 16 Па .
4. Какому процессу соответствует график, изображенный на рисунке 1?
 А. Изобарному. Б. Изохорному.
 В. Адиабатному. Г. Изотермическому.
5. При осуществлении какого изопроцесса увеличение абсолютной температуры идеального газа в 2 раза приводит к увеличению объема газа тоже в 2 раза?
 А. Изобарного. Б. Изохорного. В. Изотермического.
 Г. Адиабатного. Д. Это может быть получено при осуществлении любого процесса.
6. В двух сосудах находятся идеальные газы. Масса молекул газа в первом сосуде в 2 раза меньше массы молекул газа во втором сосуде. Чему равно отношение давления газа в первом сосуде к давлению газа во втором сосуде при одинаковых значениях концентрации молекул и температуры?
 А. 4. Б. 2. В. 1. Г. $1/2$. Д. $1/4$.
7. Состояние идеального газа изменилось в соответствии с графиком, изображенным на рисунке 3. В состоянии 1 температура газа была равна T_0 . Определите температуру газа в состоянии 2.

А. T_0 . Б. $2T_0$. В. $3T_0$. Г. $4T_0$. Д. $5T_0$. Е. $6T_0$.

8. На диаграмме $V - T$ (рис. 4) представлен график зависимости объема данной массы идеального газа от температуры. Как изменялось давление газа при переходе из состояния 1 в состояние 2?
- А. Все время увеличивалось. Б. Все время уменьшалось.
 В. Сначала увеличивалось, затем уменьшалось.
 Г. Сначала уменьшалось, затем увеличивалось.
 Д. Давление газа все время оставалось постоянным.
9. На рисунке 5 представлена зависимость давления газа в сосуде постоянного объема от температуры. Какая точка диаграммы соответствует максимальному значению массы газа, находящегося в сосуде?
- А. 1. Б. 2. В. 3. Г. 4. Д. 5. Ж. Масса газа постоянна.
10. На диаграмме $p - V$ (рис. 6) изображен график процесса, проведенного с газом. Участок 2-3 - гипербола. Какой из графиков, представленных на рисунке 7, соответствует данному процессу?
- А. 1. Б. 2. В. 3. Г. 4. Д. 5.
11. Какой точке на графике изменения состояния идеального газа в координатных осях $p - V$ (рис. 8) соответствует минимальное значение температуры газа?
- А. 1. Б. 2. В. 3. Г. 4.
 Д. Температура во всех точках одинакова.



Лабораторная работа по теме «Изучение одного из изопроцессов»

Тема 2.2. Основы термодинамики

Коды контролируемых компетенций: ОК 01, ОК 02, ОК 03, ОК 04, ОК 05, ОК 07

Форма текущего контроля: проверочная работа

Проверочная работа

- С увеличением относительной влажности разность показаний сухого и влажного термометров психрометра...
 - уменьшится.
 - увеличится.
 - не изменится.
- Один моль влажного воздуха находится в ненасыщенном состоянии при температуре T и давлении p . Температуру газа изобарно увеличили. Как изменились при этом относительная влажность воздуха и точка росы?

Для каждой величины определите соответствующий характер изменения:

 - увеличилась
 - уменьшилась

3) не изменилась

Запишите в таблицу выбранные цифры для каждой физической величины. Цифры в ответе могут повторяться.

Относительная влажность воздуха	Точка росы

3. С помощью какого прибора можно измерить относительную влажность воздуха.




1)



2)



3)



4)

4. Стекланную пластинку подвесили к динамометру. После этого ею прикоснулись к поверхности жидкости и оторвали от нее. Для какой жидкости – ртути, воды или керосина – динамометр покажет в момент отрыва силу больше?

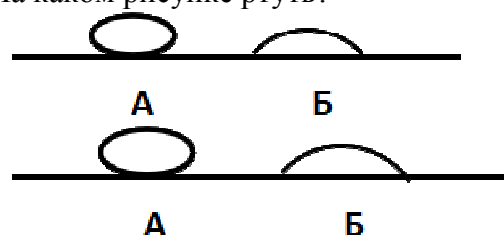
- 1) Для воды.
- 2) Для ртути.
- 3) Для керосина.
- 4) Показания будут одинаковые.

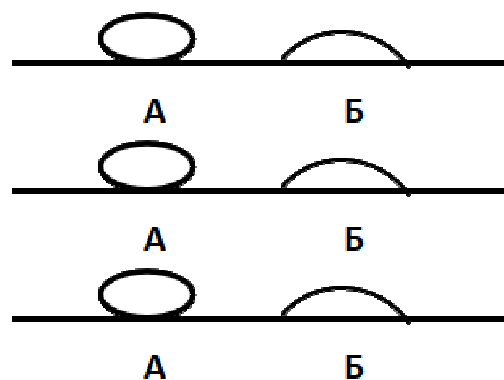
5. В двух капиллярных трубках одинакового радиуса находится вода и спирт (плотность спирта равна 800 кг/м^3 ; плотность воды – 1000 кг/м^3). Одна из этих жидкостей поднялась на 10 мм выше, чем другая. Выберите правильное утверждение.

- 1) Спирт поднялся выше, чем вода.
- 2) Вода поднялась выше, чем спирт.
- 3) Если радиус уменьшить, разность уровней жидкости уменьшится.
- 4) Среди утверждений нет правильного.

6. На стекле находятся капли воды и ртути. На каком рисунке ртуть?

- 1) А, т.к. ртуть смачивает стекло.
- 2) А, т.к. ртуть не смачивает стекло.
- 3) Б, т.к. ртуть смачивает стекло.
- 4) Б, т.к. ртуть не смачивает стекло.





7. Какое из перечисленных свойств характерно только для кристаллических тел?
- 1) Изотропность.
 - 2) Отсутствие определенной температуры плавления.
 - 3) Существование определенной температуры плавления.
 - 4) Текучесть.
8. Какого вида деформацию испытывает стена здания?
- 1) Деформацию кручения.
 - 2) Деформацию сжатия.
 - 3) Деформацию сдвига.
 - 4) Деформацию растяжения.
9. Какая из приведенных ниже формул выражает закон Гука?
- 1) $E = \sigma |\epsilon|$.
 - 2) $\sigma = E / |\epsilon|$.
 - 3) $\sigma = E |\epsilon|$.
 - 4) $\sigma = |\epsilon| / E$.
10. Выберите все верные утверждения о физических явлениях, величинах и закономерностях. Запишите цифры, под которыми они указаны.
- 1) В герметически закрытом сосуде находятся вода и водяной пар. При нагревании сосуда концентрация молекул водяного пара увеличится.
 - 2) Психрометр – прибор для измерения абсолютной влажности.
 - 3) Точка росы – температура, при которой водяной пар становится насыщенным.
 - 4) Пластическими называются деформации, которые полностью исчезают после прекращения действия внешних сил.
 - 5) Все кристаллические тела анизотропны.

Эталоны ответов

1	2	3	4	5	6	7	8	9	10
1	23	4	1	1	2	3	2	3	135

Тема 2.3. Агрегатные состояния вещества и фазовые переходы

Коды контролируемых компетенций: ОК 01, ОК 02, ОК 03, ОК 04, ОК 05, ОК 07

Форма текущего контроля: лабораторная работа

Лабораторная работа по теме «Определение влажности воздуха»

Текущий контроль по разделу 3. Электродинамика

Тема 3.1. Электрическое поле

Коды контролируемых компетенций: ОК 01, ОК 02, ОК 03, ОК 04, ОК 05, ОК 07

Форма текущего контроля: тестирование

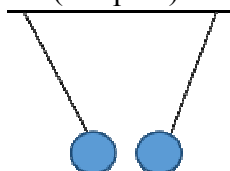
Вопросы теста

1. Как изменится сила взаимодействия двух точечных электрических зарядов при уменьшении расстояния между ними вдвое?

- 1) Не изменится.
- 2) Увеличится в 4 раза.
- 3) Уменьшится в 4 раза.
- 4) Уменьшится в 2 раза.

2. Что можно сказать о зарядах данных шариков? (см. рис.)

- 1) Оба шарика заряжены положительно.
- 2) Оба шарика заряжены отрицательно.
- 3) Один шарик заряжен положительно, другой – отрицательно.
- 4) Шарики имеют заряды одного знака.



3. В ядре атома свинца 207 частиц. Вокруг ядра обращается 82 электрона. Сколько нейтронов и протонов в ядре этого атома?

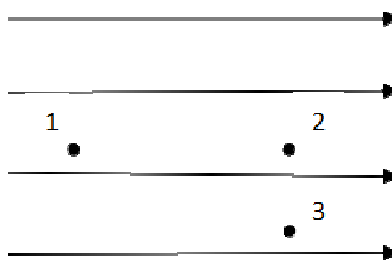
- 1) 82 протона, 125 нейтронов.
- 2) 125 протонов, 82 нейтрона.
- 3) 82 протона, 207 нейтронов.
- 4) 207 протонов, 82 нейтрона.

4. Как изменится напряженность электрического поля в некоторой точке от точечного заряда при увеличении заряда в 4 раза?

- 1) Увеличится в 16 раз.
- 2) Увеличится в 2 раза.
- 3) Увеличится в 4 раза.
- 4) Не изменится.

5. Электрон перемещается в поле, силовые линии которого показаны на рисунке. Выберите правильное утверждение.

- 1) При перемещении электрона из точки 2 в точку 3 электрическое поле совершает положительную работу.
- 2) При перемещении электрона по траектории 1-2-3-1 электрическое поле совершает отрицательную работу.
- 3) При перемещении электрона из точки 1 в точку 2 электрическое поле совершает отрицательную работу.
- 4) При перемещении электрона из точки 2 в точку 3 электрическое поле совершает отрицательную работу.



6. Какое из приведённых ниже выражений характеризует работу электрического поля по перемещению заряда?

- 1) q/U .
- 2) $E\Delta d$.
- 3) qU .
- 4) $E/\Delta d$.

7. Какая физическая величина определяется отношением потенциальной энергии электрического заряда в электрическом поле к величине этого заряда?

- 1) Потенциал электрического поля.
 - 2) Напряженность электрического поля.
 - 3) Емкость.
 - 4) Работа электростатического поля.
- 8.** Воздушный конденсатор опускают в керосин с диэлектрической проницаемостью $\epsilon = 2$. Выберите правильное утверждение.
- 1) Емкость конденсатора уменьшится в 4 раза.
 - 2) Емкость конденсатора уменьшится в 2 раза.
 - 3) Емкость конденсатора увеличится в 2 раза.
 - 4) Емкость конденсатора не изменится.
- 9.** Как изменится энергия электрического поля конденсатора, если напряжение между его обкладками уменьшить в 2 раза?
- 1) Уменьшится в 2 раза.
 - 2) Уменьшится в 4 раза.
 - 3) Увеличится в 2 раза.
 - 4) Увеличится в 4 раза.
- 10.** Выберите все верные утверждения о физических явлениях, величинах и закономерностях. Запишите цифры, под которыми они указаны.
- 1) Напряженность – силовая характеристика электрического поля.
 - 2) Электростатическое поле создают заряды, которые движутся равномерно в данной системе отсчета.
 - 3) В изолированной системе алгебраическая сумма зарядов всех тел сохраняется.
 - 4) Тела, через которые электрические заряды могут переходить от заряженного тела к незаряженному вследствие наличия в них свободных носителей зарядов, называются диэлектриками.

Эталоны ответов

1	2	3	4	5	6	7	8	9	10
2	3	1	3	3	3	1	3	2	13

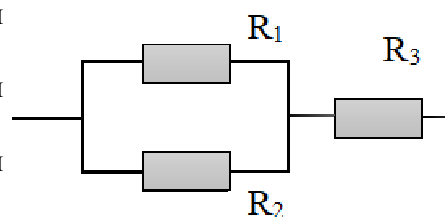
Тема 3.2. Законы постоянного тока

Коды контролируемых компетенций: ОК 01, ОК 02, ОК 03, ОК 04, ОК 05, ОК 07

Форма текущего контроля: тестирование, лабораторная работа

Вопросы теста

- 1.** Во сколько раз отличаются сопротивления двух медных проводов, если один из них имеет в 4 раза большую длину и в 2 раза большую площадь поперечного сечения, чем другой?
- 1) В 8 раз. 2) В 4 раза. 3) В 2 раза. 4) В 16 раз.
- 2.** На рисунке изображена схема соединения проводников. Выберите правильное утверждение.
- 1) Резисторы R_1 и R_3 включены последовательно.
 - 2) Резисторы R_1 и R_2 включены параллельно.
 - 3) Резисторы R_2 и R_3 включены последовательно.
 - 4) Резисторы R_1 и R_2 включены последовательно.



- 3.** Какое из приведенных ниже выражений характеризует силу тока в полной цепи?
 1) U / R . 2) $\rho l / S$. 3) $\square / (R + r)$. 4) $q / \Delta t$.
- 4.** Необходимо измерить силу тока в лампе и напряжение на ней. Как следует включить по отношению к лампе амперметр и вольтметр?
 1) Амперметр и вольтметр параллельно.
 2) Амперметр последовательно, вольтметр параллельно.
 3) Амперметр и вольтметр последовательно.
 4) Амперметр параллельно, вольтметр последовательно.
- 5.** Физическая величина, характеризующая работу сторонних сил по разделению заряда 1 Кл внутри источника тока, называется...
 1) ... сила тока.
 2) ... электродвижущая сила.
 3) ... напряжение.
 4) ... сопротивление.
- 6.** Режим короткого замыкания в цепи возникает, когда ...
 1) ... внешнее сопротивление цепи $R \Rightarrow 0$.
 2) ... внешнее сопротивление цепи $R \Rightarrow \infty$.
 3) ... внутреннее сопротивление источника тока очень мало.
 4) ... внешнее сопротивление цепи равно внутреннему сопротивлению источника.
- 7.** Параллельно или последовательно с электрическим бытовым прибором в квартире включают плавкий предохранитель на электрическом щите?
 1) Независимо от электрического прибора.
 2) Параллельно.
 3) Последовательно.
 4) Среди ответов нет верного.
- 8.** Электрическая цепь состоит из источника тока, амперметра и лампы. Изменится ли показание амперметра, если в цепь включить параллельно ещё такую же лампу? Выберите правильное утверждение.
 1) Уменьшится, так как сопротивление цепи возрастет.
 2) Увеличится, так как сопротивление цепи уменьшится.
 3) Не изменится.
- 9.** Мощность электрического тока на участке цепи определяется следующим выражением:
 1) $I \cdot U$. 2) $I \cdot R$. 3) $I \cdot U \cdot t$. 4) U / R .
- 10.** Последовательно соединенные медная и стальная проволоки одинаковой длины и сечения подключены к аккумулятору (удельное сопротивление меди $1,7 \cdot 10^{-8} \text{ Ом} \cdot \text{м}$; удельное сопротивление стали $12 \cdot 10^{-8} \text{ Ом} \cdot \text{м}$). В какой из них выделится большее количество теплоты за одинаковое время?
 1) В медной.
 2) В стальной.
 3) Количество теплоты одинаковое.
- 11.** Вопрос с профессиональной направленностью:

Какой провод, медный или алюминиевый, нужно использовать для электропроводки в квартире? Почему?

Устанавливая электрические проводки, электрикам приходится менять сопротивление проводов (в зависимости от ситуации). Объясните, как изменится сопротивление в каждом из случаев:

А) Кусок неизолированной проволоки сложили вдвое. Как изменилось её сопротивление? Почему?

Б) Резисторы соединили последовательно. Их общее сопротивление будет больше или меньше сопротивления каждого резистора? Почему?

Эталоны ответов

1	2	3	4	5	6	7	8	9	10
3	2	3	2	2	1	3	2	1	2

Лабораторная работа по теме «Изучение законов последовательного и параллельного соединений проводников. Измерение ЭДС и внутреннего сопротивления источника тока»

Задача №1. В керосине расположены два точечных заряда по $6 \cdot 10^6$ Кл. На каком расстоянии друг от друга надо расположить заряды чтобы, сила взаимодействия между ними была равна 0,6 Н.

Задача №2. Определите силу тока, проходящего по медному проводу длиной 100 м и площадью поперечного сечения $0,5 \text{ мм}^2$ при напряжении 6,8В.

Задача №3. Чему равны ЭДС и внутреннее сопротивление батареи, если три одинаковые гальванических элемента с ЭДС 1,5 В и внутренним сопротивлением 0,3 Ом соединены: а) последовательно; б) параллельно.

Тема 3.3. Электрический ток в различных средах

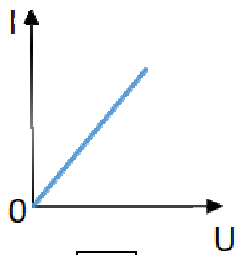
Коды контролируемых компетенций: ОК 01, ОК 02, ОК 03, ОК 04, ОК 05, ОК 07

Форма текущего контроля: тестирование

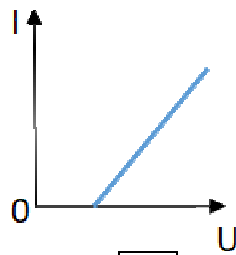
Вопросы теста

1. Электрический ток в газах создается движением ...
 - 1) ... свободных электронов.
 - 2) ... молекул.
 - 3) ... электронов, положительных и отрицательных ионов.
 - 4) ... дырок.
2. Укажите прибор, в котором можно создать ток только в одном направлении.
 - 1) Конденсатор.
 - 2) Резистор.
 - 3) Полупроводниковый диод.
 - 4) Катушка.
3. Выберите наиболее правильное продолжение фразы: «Термоэлектронная эмиссия – это явление, при котором ...»
 - 1) ... молекулы вылетают с поверхности проводника.
 - 2) ... свободные электроны вылетают с поверхности проводника.
 - 3) ... проводник заряжается, поглощая заряженные частицы из окружающей среды.
 - 4) ... свободные электроны вылетают с поверхности нагретого проводника.
4. Как называется процесс выделения вещества на электродах?
 - 1) Электролитическая диссоциация.

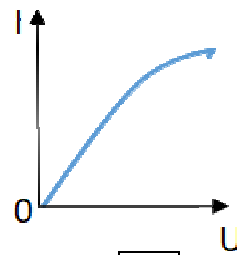
- 2) Ионизация.
- 3) Электролиз.
- 4) Электризация.



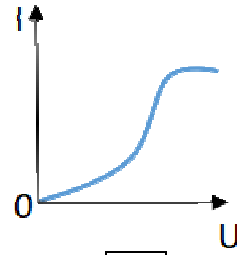
1



2



3



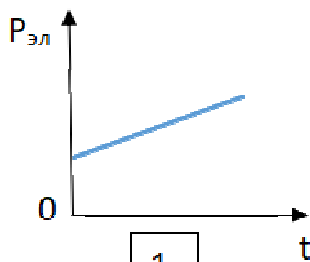
4

5. Какой из графиков соответствует вольтамперной характеристике электролитов?

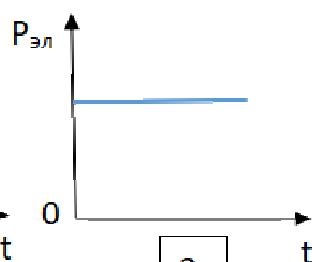
6. В четырёхвалентный кремний добавили в первом опыте пятивалентный химический элемент, а во втором – трёхвалентный элемент. Каким типом проводимости в основном будет обладать полупроводник в каждом случае?

- 1) В первом – дырочной, во втором – электронной.
- 2) В первом – электронной, во втором – дырочной.
- 3) В обоих случаях электронной.
- 4) В обоих случаях дырочной.

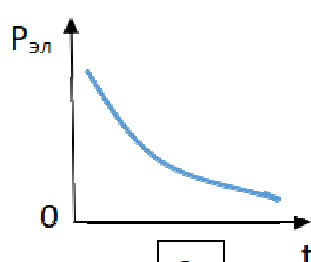
7. Какой из графиков соответствует зависимости удельного сопротивления полупроводников от температуры?



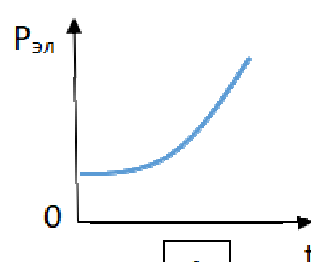
1



2



3



4

8. Какие частицы являются носителями заряда в металлах?

- 1) Свободные электроны.
- 2) Электроны и ионы.
- 3) Ионы.
- 4) Свободные электроны и дырки.

9. Как называется процесс создания носителей заряда в жидкостях?

- 1) Электролитическая диссоциация.
- 2) Ионизация.
- 3) Электролиз.
- 4) Электризация.

10. В донорных полупроводниках электропроводность...

- 1) ... собственная.
- 2) ... примесная электронная.
- 3) ... примесная дырочная.
- 4) ... эти материалы плохо проводят электрический ток.

11. Вопрос с профессиональной направленностью:

Температура нагрева строительных конструкций определяется с помощью полупроводниковых термометров. На чем основан принцип работы данных приборов?

В линиях электропередач высокого напряжения для уменьшения потерь электроэнергии на коронный разряд используют провода большого диаметра. Объясните, почему так делают?

Эталоны ответов

1	2	3	4	5	6	7	8	9	10
3	3	4	3	2	2	3	1	1	2

Тема 3.4. Магнитное поле

Коды контролируемых компетенций: ОК 01, ОК 02, ОК 03, ОК 04, ОК 05, ОК 07

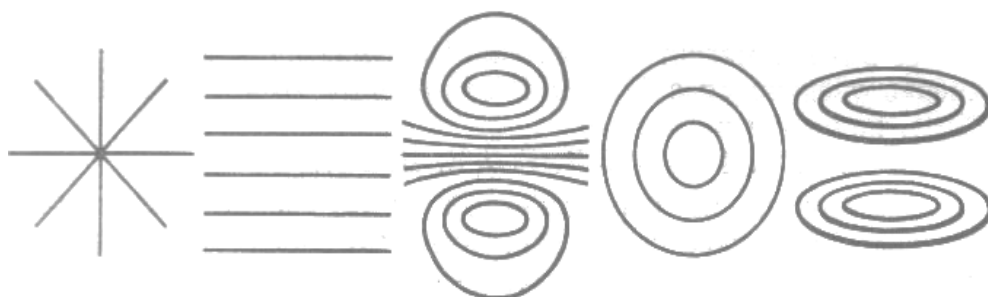
Форма текущего контроля: тестирование

Вопросы теста

Вариант 1

1. Источником магнитного поля являются (является)...
 - 1) движущиеся электрические заряды,
 - 2) заряженный теннисный шарик,
 - 3) полосовой магнит.
2. Закончить фразу: «Если электрический заряд движется, то вокруг него существует...»
 - 1) магнитное поле,
 - 2) электрическое поле,
 - 3) электрическое и магнитное поле.
3. Какие силы проявляются во взаимодействии двух проводников с током?
 - 1) силы магнитного поля,
 - 2) силы электрического поля,
 - 3) силы гравитационного поля.
4. Какие утверждения являются верными?
 - А) В природе существуют электрические заряды.
 - Б) В природе существуют магнитные заряды.
 - В) В природе не существует электрических зарядов.
 - Г) В природе не существует магнитных зарядов.

1) А и Б, 2) А и В, 3) А и Г, 4) Б, В и Г.
5. Какой из вариантов соответствует схеме расположения магнитных линий вокруг прямолинейного проводника с током, расположенного вертикально



- 1)
- 2)
- 3)
- 4)
- 5)

Вариант 2

1. Обнаружить магнитное поле можно по...
 - А) по действию на любой проводник,
 - Б) действию на проводник, по которому течет электрический ток,
 - В) заряженный теннисный шарик, подвешенный на тонкой нерастяжимой нити,
 - Г) на движущиеся электрические заряды.

1) А и Б, 2) А и В, 3) Б и В, 4) Б и Г.

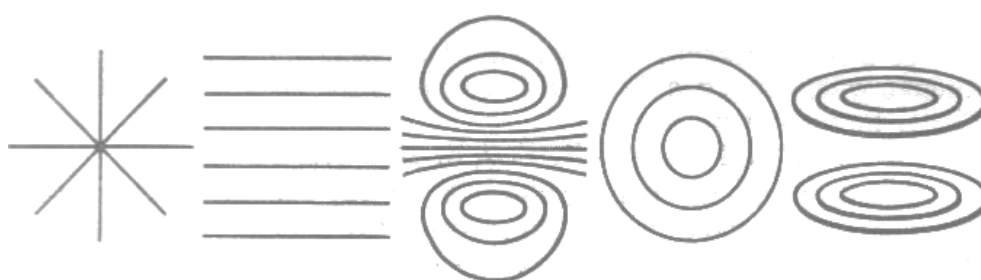
2. Закончить фразу: «Если электрический заряд неподвижен, то вокруг него существует...»
 - 1) магнитное поле,
 - 2) электрическое поле,
 - 3) электрическое и магнитное поле.

3. Два параллельных проводника, по которым текут токи противоположных направлений...
 - 1) взаимно притягиваются,
 - 2) взаимно отталкиваются,
 - 3) никак не взаимодействуют.

4. Магнитная стрелка отклонится, если её разместить вблизи...
 - А) вблизи потока электронов,
 - Б) вблизи потока атомов водорода,
 - В) вблизи потока отрицательных ионов,
 - Г) вблизи потока положительных ионов,
 - Д) вблизи потока ядер атома кислорода.

1) все ответы верны, 2) А, Б, В, и Г, 3) Б, В, Г, 4) А, В, Г, Д

5. Какой из вариантов соответствует схеме расположения магнитных линий вокруг соленоида?



- 1)
- 2)
- 3)
- 4)
- 5)

Эталонные ответы

	1	2	3	4	5
Вариант 1	1, 3	3	1	3	5
Вариант 2	4	2	2	4	3

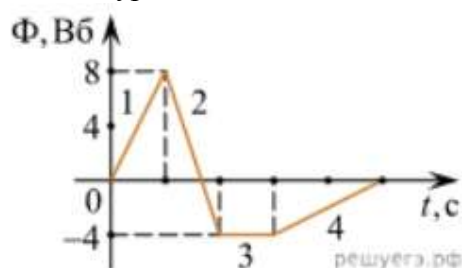
Тема 3.5. Электромагнитная индукция

Коды контролируемых компетенций: ОК 01, ОК 02, ОК 03, ОК 04, ОК 05, ОК 07, ПК 4.3, ПК 4.4, ПК 4.6

Форма текущего контроля: проверочная работа, лабораторная работа

Проверочная работа

1. Какое из приведенных ниже выражений характеризует понятие электромагнитной индукции?
 - 1) Явление, характеризующее действие магнитного поля на движущийся заряд.
 - 2) Явление возникновения в замкнутом контуре электрического тока при изменении магнитного поля.
 - 3) Явление возникновения ЭДС в проводнике под действием магнитного поля.
2. С помощью какого правила определяют направление индукционного тока?
 - 1) Правило правой руки.
 - 2) Правило буравчика.
 - 3) Правило левой руки.
 - 4) Правило Ленца.
3. Укажите все правильные утверждения, которые отражают сущность явления электромагнитной индукции: «В замкнутом контуре электрический ток появляется...»
 - 1) ... если магнитный поток не меняется.
 - 2) ... если магнитный поток не равен нулю.
 - 3) ... при увеличении магнитного потока.
 - 4) ... при уменьшении магнитного потока.
4. Что определяется скоростью изменения магнитного потока через контур?
 - 1) Индуктивность контура.
 - 2) ЭДС индукции.
 - 3) Магнитная индукция.
 - 4) Индукционный ток.
5. На рисунке показан график зависимости магнитного потока, пронизывающего контур, от времени. На каком из участков графика в контуре не возникает ЭДС индукции?
 - 1) 1.
 - 2) 2.
 - 3) 3.
 - 4) 4.



6. Сила тока в катушке увеличилась в 2 раза. Выберите верное утверждение.
 - 1) Индуктивность катушки увеличилась в 2 раза.
 - 2) Индуктивность катушки увеличилась в $\sqrt{2}$ раз.
 - 3) Индуктивность катушки уменьшилась в 2 раза.
 - 4) Индуктивность катушки не изменилась.
7. Как уменьшить индуктивность катушки с железным сердечником при условии, что габариты обмотки (её длина и поперечное сечение) останутся неизменными?
 - 1) Уменьшить число витков.
 - 2) Уменьшить силу тока в катушке.
 - 3) Вынуть железный сердечник.

- 4) Увеличить толщину обмотки.
8. Сила тока в контуре увеличилась в два раза. Укажите все правильные утверждения.
- 1) Энергия магнитного поля контура увеличилась в два раза.
 - 2) Энергия магнитного поля контура увеличилась в четыре раза.
 - 3) Энергия магнитного поля контура уменьшилась в два раза.
 - 4) Энергия магнитного поля контура не изменилась.
9. Какое математическое выражение служит для определения ЭДС индукции в замкнутом контуре?
- 1) $-\Delta\Phi / \Delta t$.
 - 2) $IB\Delta l \sin\alpha$.
 - 3) $BScos\alpha$.
 - 4) $BSsina$.
10. Как нужно изменить индуктивность контура, для того чтобы при неизменном значении силы тока в нём энергия магнитного поля уменьшилась в 4 раза.
- 1) Уменьшить в два раза.
 - 2) Уменьшить в четыре раза.
 - 3) Увеличить в два раза.
 - 4) Увеличить в четыре раза.
11. Вопрос с профессиональной направленностью:
Как используется электромагнитная индукция в медицине?

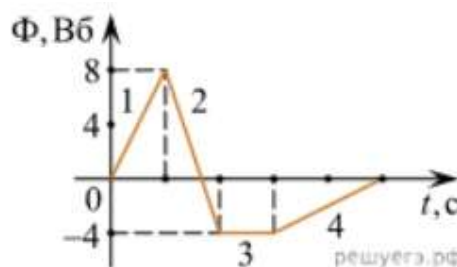
Эталон ответов:

1	2	3	4	5	6	7	8	9	10
2	4	34	2	3	4	3	2	1	2

Лабораторная работа по теме «Изучение явления электромагнитной индукции в медицине»

На рисунке показан график зависимости магнитного потока, пронизывающего контур, от времени. На каком из участков графика в контуре не возникает ЭДС индукции?

- 5) 1.
- 6) 2.
- 7) 3.
- 8) 4.



Какое математическое выражение служит для определения ЭДС индукции в замкнутом контуре?

- 1) $-\Delta\Phi / \Delta t$.
- 2) $IB\Delta l \sin\alpha$.
- 3) $BScos\alpha$.
- 4) $BSsina$.

Как нужно изменить индуктивность контура, для того чтобы при неизменном значении силы тока в нём энергия магнитного поля уменьшилась в 4 раза.

Рубежный контроль по разделу 3. Электродинамика

Коды контролируемых компетенций: ОК 01, ОК 02, ОК 03, ОК 04, ОК 05, ОК 07, ПК 4.3, ПК 4.4, ПК 4.6

Форма рубежного контроля: решение ситуационных задач, составление ситуационных задач

Ситуационные задачи

Задача №1. Сколько витков должна содержать катушка с площадью поперечного сечения 50 см^2 . При изменении магнитной индукции катушки от 0,2 до 0,3 Тл в течение 4 мс в ней возбуждалась ЭДС 10 В.

Задача №2. Определить время, в течение которого в обмотке выделится количество теплоты, равное энергии магнитного поля в сердечнике электромагнита. Обмотка электромагнита имеет индуктивность 0,8 Гн, сопротивление 15 Ом и находится под постоянным напряжением.

Задача №3. Сила Лоренца, действующая на электрон, равна $5 \cdot 10^{-13} \text{ Н}$. С каким ускорением движется электрон в однородном магнитном поле (вектор магнитной индукции перпендикулярен вектору скорости) с индукцией 0,06 Тл.

Задача №4. Какая сила тока возникает в проводнике, если его замкнуть накоротко? Сопротивление цепи 0,5 Ом. Проводник с активной длиной 20 см движется со скоростью 15 м/с перпендикулярно линиям индукции однородного магнитного поля с индукцией 3 Тл.

Задача №5. Найдите время изменения магнитного потока и силу индукционного тока, если сопротивление проводника 0,24 Ом, магнитный поток, пронизывающий контур проводника, равномерно изменился на 0,6 Вб так, что ЭДС индукции оказалось равной 1,2 В.

Задача №6. Определить центростремительную силу, действующую на протон в однородном магнитном поле с индукцией 0,02 Тл (вектор магнитной индукции перпендикулярен вектору скорости), если радиус окружности, по которой он движется, равен 8 см.

Задача №7. Составьте ситуационную задачу, иллюстрирующую применение законов электродинамики в медицине

Текущий контроль по разделу 4. Колебания и волны

Тема 4.1. Механические колебания и волны

Коды контролируемых компетенций: ОК 01, ОК 02, ОК 04, ОК 05, ОК 07, ПК 4.3, ПК 4.4, ПК 4.6

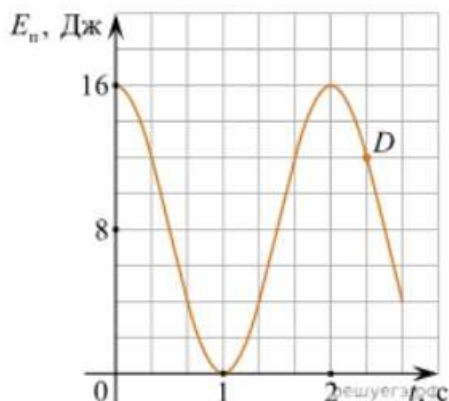
Форма текущего контроля: проверочная работа

Проверочная работа

1. Какие из перечисленных ниже колебаний являются вынужденными? Укажите все правильные ответы.
 - 1) Колебания качелей, раскачиваемых человеком, стоящим на земле.
 - 2) Колебания груза на нити, один раз отведенного от положения равновесия и отпущенного.
 - 3) Колебания диффузора громкоговорителя во время работы приемника.
 - 4) Колебания чашек рычажных весов.
2. Подвешенный на нити груз совершает малые колебания. Считая колебания незатухающими, укажите все правильные утверждения.
 - 1) Чем длиннее нить, тем больше частота колебаний.
 - 2) При прохождении грузом положения равновесия скорость груза максимальна.
 - 3) Груз совершает периодическое движение.
 - 4) Период колебаний зависит от амплитуды.

3. На рисунке представлен график зависимости потенциальной энергии математического маятника (относительно положения его равновесия) от времени. Какова полная механическая энергия маятника в момент времени, соответствующий на графике точке D ?

- 1) 4 Дж.
- 2) 16 Дж.
- 3) 12 Дж.
- 4) 8 Дж.



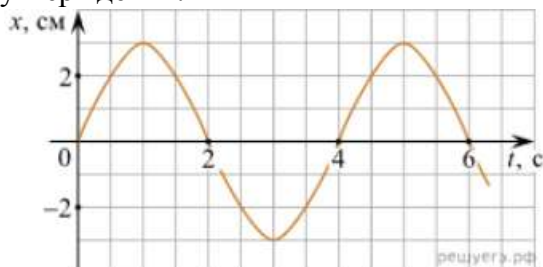
4. Какое из приведенных ниже выражений определяет период колебаний груза массой m , подвешенного на пружине жесткостью k ?

- 1) $2\pi\sqrt{\frac{l}{g}}$
- 2) $2\pi\sqrt{\frac{m}{k}}$
- 3) $\frac{1}{2\pi}\sqrt{\frac{g}{l}}$
- 4) $\frac{1}{2\pi}\sqrt{\frac{k}{m}}$

5. Как изменится период колебаний математического маятника, если длину нити уменьшить в 4 раза?

- 1) Уменьшится в 4 раза.
- 2) Уменьшится в 2 раза.
- 3) Увеличится в 4 раза.
- 4) Увеличится в 2 раза.

6. На рисунке приведен график гармонических колебаний. Укажите все правильные утверждения.



- 1) Амплитуда колебаний равна 2 см.
- 2) Период колебаний 2 с.
- 3) Частота колебаний 0,5 Гц.
- 4) Среди утверждений нет правильного

7. Каковы свойства продольных волн? Укажите все правильные ответы.

- 1) Эти волны могут распространяться только в газах.
- 2) Продольные волны представляют собой чередующиеся разрежения и сжатия.
- 3) Частицы среды при колебаниях смещаются вдоль направления распространения волны.
- 4) Частицы среды при колебаниях смещаются перпендикулярно направлению распространения волны.

8. В каких направлениях совершаются колебания в поперечной волне?

- 1) Во всех направлениях.
- 2) Только по направлению распространения волны.
- 3) Только перпендикулярно направлению распространения волны.
- 4) Среди ответов нет правильного.

9. Установите соответствие между примерами и физическими явлениями, которые эти примеры иллюстрируют. Для каждого примера проявления физических явлений из

первого столбца подберите соответствующее название физического явления из второго столбца.

ПРИМЕРЫ

ФИЗИЧЕСКИЕ ЯВЛЕНИЯ

- | | |
|---|--|
| А) эхо в лесу | 1) Огибание звуком препятствия |
| Б) определение глубины водоёма с помощью навигационного прибора | 2) Явление полного внутреннего отражения |
| эхолота | 3) Отражение света |
| | 4) Отражение звука от препятствия |

Запишите в таблицу выбранные цифры под соответствующими буквами.

А	Б

10. Какие из перечисленных ниже волн являются поперечными? Укажите все правильные ответы.

- 1) Волны на поверхности воды.
- 2) Звуковые волны в газах.
- 3) Радиоволны.

11. Вопрос с профессиональной направленностью:

Степень необходимости звукоизоляции перекрытий в зданиях медицинского назначения зависит от характеристик используемых в строительстве материалов и соблюдения всех технологических норм. От каких параметров зависит скорость затухания звука в среде? Какие материалы нужно использовать для звукоизоляции?

Эталоны ответов

1	2	3	4	5	6	7	8	9	10
1	23	2	2	2	4	23	3	44	13

Тема 4.2. Электромагнитные колебания и волны

Коды контролируемых компетенций: ОК 01, ОК 02, ОК 03, ОК 04, ОК 05, ОК 07, ПК 4.3, ПК 4.4, ПК 4.6

Форма текущего контроля: проверочная работа

Проверочная работа

1. Как изменится частота электромагнитных колебаний в контуре $L - C$, если емкость конденсатора увеличить в четыре раза?

- 1) Увеличится в 4 раза.
- 2) Увеличится в 2 раза.
- 3) Уменьшится в 4 раза.
- 4) Уменьшится в 2 раза.

2. Значение силы переменного тока, измеренное в амперах, задано уравнением $i = 0,1 \sin 100\pi t$. Укажите все правильные утверждения.

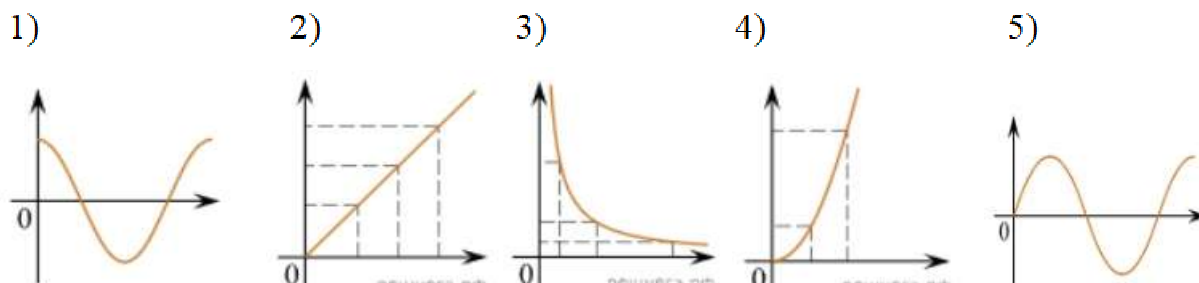
- 1) Амплитуда силы тока 0,1 А.
- 2) Период равен 100 с.
- 3) Частота равна 50 Гц.
- 4) Циклическая частота 100 рад/с.

3. Даны следующие зависимости величин:

А) Зависимость напряжения на конденсаторе от времени в колебательном контуре, учитывая, что в начальный момент времени конденсатор заряжен.

- Б) Зависимость энергии магнитного поля катушки с током от силы тока в ней.
 В) Зависимость длины излучаемой электромагнитной волны от частоты колебаний заряда в металлическом проводнике.

Установите соответствие между этими зависимостями и видами графиков, обозначенных цифрами 1–5. Для каждой зависимости А–В подберите соответствующий вид графика и запишите в таблицу выбранные цифры под соответствующими буквами.



А	Б	В

Ответ:

4. Каким образом осуществляется передача электрической энергии из первичной обмотки трансформатора во вторичную обмотку? Укажите все правильные ответы.

- 1) Через провода, соединяющие обмотки трансформатора.
- 2) С помощью переменного магнитного поля, пронизывающего обе катушки.
- 3) С помощью электромагнитных волн.
- 4) Правильных ответов нет.

5. Какое из приведенных ниже выражений определяет понятие электромагнитное поле?

- 1) Процесс распространения колебаний заряженных частиц.
- 2) Особая форма материи, осуществляющая взаимодействие между заряженными частицами.
- 3) Особая форма материи, осуществляющая взаимодействие между любыми частицами.

6. В первичной обмотке трансформатора 100 витков, во вторичной обмотке – 20. Выберите все правильные утверждения.

- 1) Трансформатор является понижающим.
- 2) Трансформатор является повышающим.
- 3) Коэффициент трансформации равен 0,2.
- 4) Коэффициент трансформации равен 5.

7. Продолжите фразу: «Электромагнитная волна – это ...». Выберите все правильные утверждения.

- 1) ... процесс распространения колебаний электрической напряженности и магнитной индукции.
- 2) ... кратчайшее расстояние между двумя точками, колеблющимися в одинаковых фазах.
- 3) ... процесс распространения колебаний заряженных частиц.
- 4) ... процесс распространения электромагнитного поля от источника колебаний в пространстве.

8. Как ориентированы векторы магнитной индукции \vec{B} , электрической напряженности \vec{E} и скорости \vec{c} по отношению друг к другу в электромагнитной волне?

- 1) $\vec{B} \perp \vec{E} \perp \vec{c}$; $\vec{B} \perp \vec{E} \perp \vec{c}$. 2) $\vec{B} \perp \vec{c}$; $E \parallel \vec{c}$; $\vec{B} \perp \vec{c}$; $E \parallel \vec{c}$. 3) $\vec{B} \perp \vec{E} \perp \vec{c}$; $\vec{B} \perp \vec{E} \perp \vec{c}$. 4) $\vec{B} \parallel \vec{E} \parallel \vec{c}$; $\vec{B} \parallel \vec{E} \parallel \vec{c}$.

9. Какое устройство в приёмнике Попова регистрирует приём электромагнитных волн?

- 1) Электромагнитное реле.
- 2) Когерер.
- 3) Антенна.
- 4) Электрический звонок.

10. Продолжите фразу: «Процесс наложения колебаний одной частоты на колебания другой частоты называется...».

- 1) ... радиосвязь.
- 2) ... детектирование.
- 3) ... модуляция.
- 4) ... радиолокация.

11. Вопрос с профессиональной направленностью:

При оборудовании медицинских помещений необходимо учитывать все свойства материалов, в том числе и для защиты от электромагнитных полей. Какие вещества лучше отражают электромагнитные волны?

Если подключить трансформатор к источнику постоянного напряжения, то он может выйти из строя. Объясните, вследствие чего это происходит?

Эталоны ответов

1	2	3	4	5	6	7	8	9	10
4	13	А – 1 Б – 4 В – 3	2	2	14	134	3	2	3

Рубежный контроль

по разделу 4. Колебания и волны

Коды контролируемых компетенций: ОК 01, ОК 02, ОК 04, ОК 05, ОК 07, ПК 4.3, ПК 4.4, ПК 4.6

Форма рубежного контроля: решение ситуационных задач, составление ситуационных задач

Ситуационные задачи

Задача №1. Ток в колебательном контуре изменяется со временем по закону $i = 0,02 \cos 628t$. Найти индуктивность контура, зная, что емкость его конденсатора $2 \cdot 10^{-5}$ Ф.

Задача №2. Трансформатор, содержащий в первичной обмотке 720 витков, повышает напряжение с 220 В до 600 В. Определите коэффициент трансформации, число витков во вторичной обмотке? Выясните, в какой обмотке провод имеет большую площадь поперечного сечения?

Задача №3. В цепь переменного тока со стандартной частотой включена катушка с индуктивностью 80 мГн. Найдите действующее значение напряжения на данном участке цепи, если действующее значение силы тока равно 2 А.

Задача №4. Значение силы тока, измеренное в амперах, задано уравнением $i=0,28\sin 507t$. Определите амплитуду силы тока, частоту и период.

Задача №5. Напряжение в первичной обмотке трансформатора 120 В, сила тока в ней 2 А. Напряжение во вторичной обмотке 30 В. Определите коэффициент трансформации, силу тока во вторичной обмотке. Выясните, трансформатор является повышающим или понижающим.

Задача №6. Определите индуктивное, емкостное, полное сопротивление цепи, сдвиг фаз между силой тока и напряжением. При условии, что в цепь переменного тока со стандартной частотой, последовательно включены резистор сопротивлением 21 Ом, катушка с индуктивностью 0,08 Гн, конденсатор емкостью 82 мкФ.

Задание № 7. Составьте задачу на применение закономерностей колебаний и волн в медицине.

Текущий контроль по разделу 5. Оптика

Тема 5.1. Природа света

Коды контролируемых компетенций: ОК 01, ОК 02, ОК 04, ОК 05, ПК 4.3, ПК 4.4, ПК 4.6

Форма текущего контроля: проверочная работа, лабораторная работа

Проверочная работа

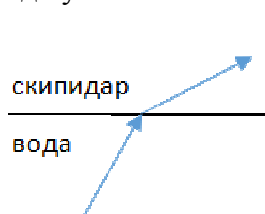
1. При переходе света из вакуума в прозрачную среду с абсолютным показателем преломления $n = 2$ скорость распространения...

- 1) ... увеличивается в 2 раза.
- 2) ... остается неизменной.
- 3) ... уменьшается в 2 раза.

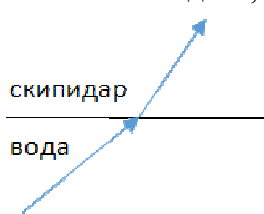
2. Для нахождения предельного угла при падении луча на границу «стекло-вода» нужно использовать формулу. Выберите все правильные ответы.

- 1) $\sin \alpha_0 = n_c / n_v$.
- 2) $\sin \alpha_0 = n_c \cdot n_v$.
- 3) $\sin \alpha_0 = n_v / n_c$.

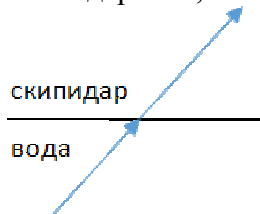
3. Луч переходит из воды в скипидар. На каком из рисунков правильно изображен ход луча? Показатель преломления воды 1,33, скипидара – 1,6.



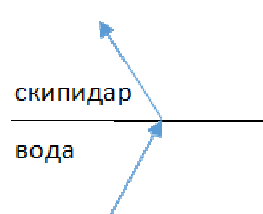
1)



2)



3)



4)

4. Угол падения луча равен 50° . Угол отражения луча равен.

- 1) 90° .
- 2) 40° .
- 3) 50° .
- 4) 100° .

5. Предмет находится между фокусом F и двойным фокусом 2F рассеивающей линзы. Изображение предмета ...

- 1) ... мнимое, прямое, увеличенное.

- 2) ... действительное, перевернутое, увеличенное.
- 3) ... мнимое, прямое, уменьшенное.
- 4) ... действительное, перевернутое, уменьшенное.

6. Световой пучок выходит из стекла в воздух. Что происходит при этом с частотой электромагнитных колебаний в световой волне и скоростью их распространения?

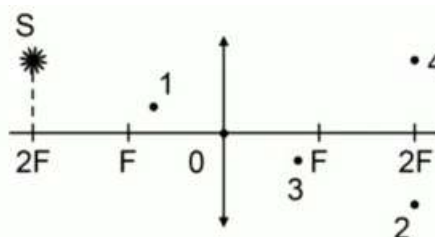
- 1) Частота и скорость увеличиваются.
- 2) Частота – увеличивается, скорость – уменьшается.
- 3) Частота и скорость не изменяются.
- 4) Частота – не изменяется, скорость – увеличивается.

7. Физическая величина, равная отношению светового потока, падающего на поверхность, к площади этой поверхности, называется ...

- 1) ... силой света.
- 2) ... яркостью.
- 3) ... освещенностью.
- 4) ... телесным углом.

8. Укажите точку, в которой находится изображение светящейся точки S (см. рисунок), создаваемое тонкой собирающей линзой.

- 1) 1.
- 2) 2.
- 3) 3.
- 4) 4.



9. Установите соответствие между оптическим прибором (устройством) и типом изображения, полученным с его помощью.

Оптические приборы	Тип изображения
А) Мультимедиа проектор	1) Уменьшенное, мнимое.
Б) Дверной глазок	2) Увеличенное, действительное.
	3) Уменьшенное, действительное.
	4) Увеличенное, мнимое.

А	Б

О т в е т:

10. Выберите все верные утверждения о физических явлениях, величинах и закономерностях. Запишите цифры, под которыми они указаны.

- 1) В однородной прозрачной среде свет распространяется прямолинейно.
- 2) При преломлении электромагнитных волн на границе двух сред скорость волны не изменяется.
- 3) Явление полного внутреннего отражения может наблюдаться только при углах падения больше предельного.
- 4) Собирающая линза может давать как мнимые, так и действительные изображения.

11. Вопрос с профессиональной направленностью:

В медицинском помещении для реабилитации пациентов с целью создания определенного интерьера используют декоративные лампы. Какая из ламп – красная или зеленая – будет испускать больший световой поток, если их мощности одинаковы?

Объясните, какие преимущества представляет способ освещения медицинских помещений, при котором осветительные приборы размещают таким образом, что свет, создаваемый ими, не попадает на рабочие места, а освещает белый потолок помещения.

Эталоны ответов

1	2	3	4	5	6	7	8	9	10
3	3	2	3	3	4	3	2	21	134

Лабораторная работа по теме «Определение показателя преломления стекла»

При переходе света из вакуума в прозрачную среду с абсолютным показателем преломления $n = 2$ скорость распространения...

Для нахождения предельного угла при падении луча на границу «стекло-вода» нужно использовать формулу. Выберите все правильные ответы.

$$\sin \alpha_0 = n_c / n_v.$$

$$\sin \alpha_0 = n_c \cdot n_v.$$

$$\sin \alpha_0 = n_v / n_c.$$

Луч переходит из воды в скипидар. На каком из рисунков правильно изображен ход луча? Показатель преломления воды 1,33, скипидара – 1,6.



Тема 5.2. Волновые свойства света

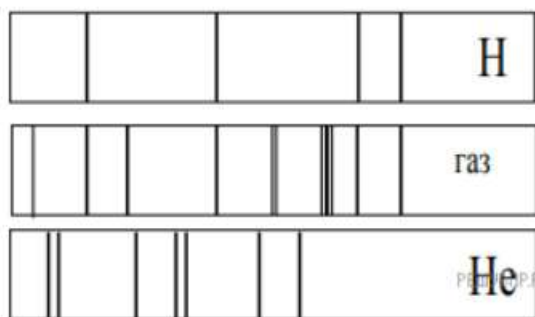
Коды контролируемых компетенций: ОК 01, ОК 02, ОК 04, ОК 05, ОК 07, ПК 4.3, ПК 4.4, ПК 4.6

Форма текущего контроля: тестирование, практическая работа, лабораторная работа

Вопросы теста

- Как изменится длина волны красного излучения при переходе света из воздуха в воду?
 - Уменьшается.
 - Увеличивается.
 - Не изменяется.
- Какое из приведенных ниже выражений определяет понятие интерференции?
 - Наложение когерентных волн.
 - Разложение света в спектр при преломлении.
 - Огибание волной препятствий.
- Какое из наблюдаемых явлений объясняется дифракцией света?
 - Излучение света лампой накаливания.

- 2) Радужная окраска компакт-дисков.
 3) Радужная окраска тонких мыльных пленок.
 4) Радуга.
- 4.** Свет какого цвета меньше других отклоняется призмой спектроскопа?
 1) Фиолетового.
 2) Синего.
 3) Зеленого.
 4) Красного.
- 5.** Какие из приведенных ниже выражений являются условием наблюдения главных максимумов в спектре дифракционной решетки с периодом d под углом φ ?
 1) $d \sin \varphi = k \lambda$.
 2) $d \cos \varphi = k \lambda$.
 3) $d \sin \varphi = (2k + 1) \lambda/2$.
 4) $d \cos \varphi = (2k + 1) \lambda/2$.
- 6.** Какое явление доказывает поперечность световых волн?
 1) Дисперсия.
 2) Отражение.
 3) Преломление.
 4) Поляризация.
- 7.** Какое из перечисленных ниже электромагнитных излучений имеет наименьшую длину волны?
 1) Излучение видимого спектра.
 2) Радиоволны.
 3) Рентгеновское излучение.
 4) Ультрафиолетовое излучение.
- 8.** Укажите все правильные ответы. Две световые волны являются когерентными, если ...
 1) ... волны имеют одинаковую частоту ($\nu_1 = \nu_2$).
 2) ... волны имеют постоянную разность фаз колебаний ($\Delta\varphi = \text{const}$).
 3) ... волны имеют одинаковую частоту ($\nu_1 = \nu_2$) и постоянную разность фаз колебаний ($\Delta\varphi = \text{const}$).
 4) ... волны имеют разную частоту ($\nu_1 \neq \nu_2$) и постоянную разность фаз колебаний ($\Delta\varphi = \text{const}$).
- 9.** Какие из излучений используются для исследования структуры и внутренних дефектов твердых тел и конструкций?
 А. Ультрафиолетовое излучение.
 Б. Гамма-излучение.
 В. Видимое излучение.
 Г. Радиоволны.
 Д. Рентгеновское излучение.
- 1) А.
 2) А и Б.
 3) А, В, Д.
 4) Б и Д.
- 10.** На рисунке приведены спектр поглощения разреженных атомарных паров неизвестного газа (в середине) и спектры поглощения паров водорода и гелия. В состав неизвестного газа входит(-ят) ...



- 1) Водород.
- 2) Гелий.
- 3) Водород и гелий.
- 4) Ни водород, ни гелий.

11. Два автомобиля движутся в одном и том же направлении со скоростями v_1 и v_2 относительно поверхности Земли. Скорость света от фар первого автомобиля в системе отсчета, связанной с другим автомобилем, равна:

- 1) $c + (v_1 + v_2)$.
- 2) c .
- 3) $c + (v_1 - v_2)$.

12. Вопрос с профессиональной направленностью:

При использовании какого вида излучения лучше всего происходит сушка лекарственных растений?

Объясните, почему ртутные лампы ультрафиолетового излучения делают из кварцевого, а не из обычного стекла?

Эталоны ответов:

1	2	3	4	5	6	7	8	9	10	11
1	1	2	4	1	4	3	3	4	1	2

Лабораторная работа по теме «Определение длины световой волны с помощью дифракционной решетки»

Задание №1. Под каким углом виден первый максимум? Дифракционная решётка содержит 600 штрихов на 1 мм. На решётку падает свет длиной волны 500 нм.

Задание №2. На дифракционную решетку, направлена монохроматическая волна, постоянная которой равна 0,01 мм. Первый дифракционный максимум получен на экране, смещенном на 4 см от первоначального направления света. Расстояние между экраном и решеткой равно 70 см. Определить длину волны монохроматического излучения.

Практическая работа по теме «Колебания и волны. Оптика»

Задача №1. В некоторую точку пространства приходит излучение с оптической разностью хода волн 1,9 мкм. Определить, усилится или ослабнет свет в этой точке, если длина волны 500 нм.

Задача №2. Длина волны желтого света паров натрия в воздухе равна 589 нм. Какова длина волны желтого света паров натрия в стекле с показателем преломления 1,56.

Задача №3. Два когерентных луча с длинами волн 504 нм пересекаются в одной точке на экране, оптическая разность хода лучей равна 18,14 мкм. Что будет наблюдаться в этой точке: усиление или ослабление света.

Задача №4. Длина волны, соответствующая красной линии спектра водорода, в вакууме равна 656,3 нм, а в стекле – 410 нм. Определить показатель преломления стекла для этого света?

Тема 5.3. Специальная теория относительности

Коды контролируемых компетенций: ОК 01, ОК 02, ОК 04, ОК 05

Форма текущего контроля: проверочная работа

Вариант 1

Внимание: V – скорость тел (частиц)

- Кто из ниже указанных ученых является создателем специальной теории относительности (СТО)?
 - Арно Пензиас
 - Альберт Майкельсон
 - Альберт Эйнштейн
 - Джеймс Максвелл
- В каких единицах измеряется энергия покоя тела (частицы) в СИ?
 - Дж
 - Дж/кг
 - Дж/м³
 - кг м /с
- Укажите формулу Эйнштейна:
 - $E = m_0 v^2$
 - $E = c m^2$
 - $E = \frac{mv^2}{2}$
 - $E = mc^2$
- Какая из частиц не имеет массы покоя?
 - электрон
 - фотон
 - нейтрон
 - протон
- Тело (космический корабль) движется со скоростью 0,95 с. При этом его продольные размеры...
 - увеличиваются
 - уменьшаются
 - не изменяются
- Космический корабль движется со скоростью 0,87 с. При этом его масса, масса космонавтов, масса продуктов питания увеличивается в 2 раза. Как изменится время использования запаса питания для космонавтов?
 - увеличится в 2 раза
 - уменьшится в 2 раза
 - не изменится
 - увеличится в $\sqrt{2}$ раза
- При нагревании тел их масса...
 - увеличивается
 - уменьшается
 - не изменяется
- Частица, испущенная из космического корабля движется со скоростью v_1 относительно корабля. Скорость космического корабля v . Чему равна скорость частицы v_2 относительно Земли? v и v_1 близки к скорости света.
 - $v_2 = v_1 + v$
 - $v_2 = \sqrt{v_1^2 + v^2}$
 - $v_2 = \frac{v_1 + v}{1 + \frac{v_1 v}{c^2}}$
 - $v_2 = \frac{v_1 + v}{1 - \frac{v_1 v}{c^2}}$
- Сколько времени свет идет от Земли до Плутона? Расстояние от Земли до Плутона 5,9 млрд. км. Ответ округлите до целых
 - 20 с
 - 2000 с
 - $2 \cdot 10^4$ с
 - $2 \cdot 10^5$ с
- Чему равна масса тела, движущегося со скоростью 0,8 с. Масса покоящегося тела 6 кг.
 - 10 кг
 - 6 кг
 - 4,8 кг
 - 3,6 кг
- Телу какой массы соответствует энергия покоя $9 \cdot 10^{13}$ Дж?
 - 1 г
 - 10 г
 - 100 г
 - 1 кг
- * Во сколько раз увеличивается масса частицы при движении со скоростью 0,99 с? Подсказываю: $0,99^2 = 0,98$, $\sqrt{0,02} = 0,14$. Ответ округлите до десятых
 - 1,4
 - 1,7
 - 2,3
 - 7,1
 - 71
- * С какой скоростью должна лететь ракета, чтобы время в ней замедлялось в 3 раза?
 - $2,77 \cdot 10^8$ м/с
 - $2,8 \cdot 10^8$ м/с
 - $2,83 \cdot 10^8$ м/с
 - $2,89 \cdot 10^8$ м/с
 - $2,96 \cdot 10^8$ м/с

Вариант 2

Внимание: V – скорость тел (частиц)

1. В каком году была создана специальная теория относительности?
 а) 1875 б) 1905 в) 1955 д) 1975
2. В каких единицах измеряется импульс тела (частицы)?
 а) Дж/м б) Дж / кг в) кг м / с д) кг м / с²
3. Укажите формулу релятивистской массы:
 а) $m = \frac{m_0}{\sqrt{1 - \frac{v^2}{c^2}}}$ б) $m = m_0 \sqrt{1 - \frac{v^2}{c^2}}$ в) $m = \frac{m_0}{\sqrt{1 - \frac{c^2}{v^2}}}$ д) $m = m_0 \sqrt{1 - \frac{c^2}{v^2}}$
4. Чему равна скорость света в вакууме?
 а) 300 000 м/с б) 300 000 км/ч в) 300 000 км/с д) 3*10⁸ км/с
5. Тело или частица движется со скоростью, близкой к скорости света. При этом ее масса относительно неподвижного наблюдателя...
 а) увеличивается б) уменьшается в) не изменяется
6. Космический корабль движется со скоростью 0,5 с относительно Земли. Из космического корабля испускается световой сигнал в направлении движения корабля. Чему равна скорость светового сигнала относительно Земли?
 а) 0,5 с б) с в) 1,5 с д) с $\sqrt{1,5}$
7. В космическом корабле, движущемся со скоростью, близкой к скорости света время...
 а) идет быстрее б) идет медленнее
 в) на Земле и космическом корабле время идет одинаково.
8. Если элементарная частица движется со скоростью света, то ...
 а) масса покоя частицы равна нулю
 б) частица обладает электрическим зарядом
 в) на частицу действует гравитационное поле Земли
 д) частица не может распасться на составные части
9. Сколько времени свет идет от Земли до Меркурия? Расстояние от Земли до Меркурия 58 млн км.
 а) 0,02 с б) 100 с в) 200 с д) 1000 с
10. Длина покоящегося стержня 10 м. Чему будет равна его длина при движении со скоростью 0,6 с?
 а) 6 м б) 8 м в) 10 м д) 16 м
11. Найдите энергию покоя электрона.
 а) 8,1*10⁻¹⁴ Дж б) 8,1*10⁻¹⁶ Дж в) 2,7*10⁻¹⁵ Дж д) 2,7*10⁻²² Дж
- 12* С космического корабля, удаляющегося от Земли со скоростью 0,75 с, стартует ракета в направлении движения корабля. Скорость ракеты относительно Земли 0,96 с. Какова скорость ракеты относительно корабля?
 а) 0,75 с б) с в) 0,8 с д) 0,85 с е) 0,96 с
- 13* Ракета движется со скоростью 0,968 с. Во сколько раз отличается время, измеренное в ракете, от времени, измеренного по неподвижным часам?
 а) 5 раз б) 4 раза в) 3 раза д) 2 раза е) 1,5 раза

Эталоны ответов

	№1	№2	№3	№4	№5	№6	№7	№8	№9	№10	№11	№12	№13
1 вариант	с	а	д	б	б	с	а	с	с	а	а	д	с
2 вариант	б	с	а	с	а	б	б	а	с	б	а	а	б

**Текущий контроль
по разделу 6. Квантовая физика**

Тема 6.1. Квантовая оптика

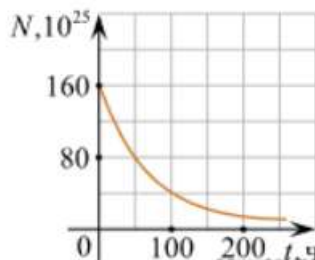
Коды контролируемых компетенций: ОК 01, ОК 02, ОК 04, ОК 05, ОК 07

Форма текущего контроля: тестирование

Вопросы теста

1. Основоположниками квантовой теории являются
 - А. А. Эйнштейн
 - Б. М. Планк
 - В. А.Г. Столетов
 - Г. Верно все
 - Д. Верно А и Б
 - Е. Верно А и В
2. Для нахождения кванта энергии нужно
 - А. Частоту умножить на постоянную Планка
 - Б. Длину волны умножить на постоянную Планка
 - В. Частоту разделить на постоянную Планка
3. Фотон – это ...
 - А. Элемент энергии
 - Б. Корпускула
 - В. Квант излучения
 - Г. Верно все
 - Д. Верно А и В
4. Заряд фотона ...
 - А. Положительный
 - Б. Нейтральный
 - В. Отрицательный
5. Масса фотона
 - А. Величина постоянная
 - Б. Всегда положительная
 - В. Равна нулю
 - Г. Верно А и Б
6. Фотоэффект - это выбиванием светом ...
 - А. Положительных зарядов
 - Б. Нейтронов
 - В. Протонов
 - Г. Электронов
7. Согласно первому закону фотоэффекта кинетическая энергия фотоэлектронов
 - А. Зависит от интенсивности света
 - Б. Не зависит от частоты
 - В. Не зависит от интенсивности света
 - Г. Зависит от длины волны

- 3) 7 – число протонов, 14 – число протонов и нейтронов.
 4) 7 – число электронов, 14 – число нейтронов.
5. Что представляет собой β -излучение?
 1) Поток быстрых электронов.
 2) Поток нейтронов.
 3) Поток квантов электромагнитного излучения.
 4) Поток ядер гелия.
6. Элемент A_ZX испытал α -распад. Какой заряд и массовое число будет у нового элемента Y?
 1) ${}^A_{Z+1}Y$. 2) ${}^{A-4}_{Z-2}Y$. 3) ${}^{A-2}_{Z-4}Y$. 4) ${}^A_{Z-1}Y$.
7. Каково соотношение между массой радиоактивного ядра $M_{\text{я}}$ и суммой масс свободных протонов $Z \cdot m_p$ и свободных нейтронов $N \cdot m_n$, из которых составлено это ядро. Укажите правильный ответ.
 1) $M_{\text{я}} = (Z \cdot m_p + N \cdot m_n)$.
 2) $M_{\text{я}} < (Z \cdot m_p + N \cdot m_n)$.
 3) $M_{\text{я}} > (Z \cdot m_p + N \cdot m_n)$.
8. Дан график зависимости числа не распавшихся ядер эрбия от времени. Каков период полураспада этого изотопа эрбия?
 1) 50 ч.
 2) 100 ч.
 3) 150 ч.
 4) 200 ч.



9. Какое из приведенных ниже выражений определяет понятие цепная ядерная реакция? Укажите правильный ответ.
 1) Процесс самопроизвольного распада ядер атомов некоторых химических элементов.
 2) Процесс превращения атомных ядер, происходящий в результате их взаимодействия с элементарными частицами или друг с другом.
 3) Процесс деления атомных ядер некоторых химических элементов, происходящий под действием нейтронов, образующихся в процессе самой ядерной реакции.
10. Какие вещества из перечисленных ниже могут быть использованы в ядерных реакторах в качестве замедлителей нейтронов?
 А. Графит. Б. Кадмий. В. Тяжелая вода. Г. Бор.
 1) А и В. 3) А и Б.
 2) Б и Г. 4) В и Г.

Эталоны ответов

1	2	3	4	5	6	7	8	9	10
24	2	3	3	1	2	2	1	3	1

2. Самая маленькая планета Солнечной системы

А. Нептун Б. Марс В. Меркурий Г. Сатурн.

3. Карликовые планеты

А. Меркурий, Венера, Марс Б. Плутон, Эрида, Хаумеда

4. Самая горячая планета Солнечной системы

А. Венера Б. Юпитер В. Марс Г. Сатурн

5. Почему хвост кометы направлен от Солнца?

А. Под действием давления солнечного ветра и солнечного света часть газов отталкиваются в сторону, противоположную Солнцу, образуя хвост кометы. Б. Под действием притяжения к планетам Солнечной системы.

6. Метеоры это

А. Вспыхивающие в земной атмосфере мельчайшие твёрдые частицы, которые вторгаются в неё извне с огромной скоростью Б. Метеороиды размерами от сантиметров до десятков метров, двигавшиеся в межпланетном пространстве и затем упавшие на Землю. В. Небольшие бесформенные тела, которые движутся вокруг Солнца на расстояниях 2,3 – 3,3 а.е. Г. Небесные объекты получившие название хвостатая или косматая звезда

7. Астероиды это

А. Вспыхивающие в земной атмосфере мельчайшие твёрдые частицы, которые вторгаются в неё извне с огромной скоростью Б. Метеороиды размерами от сантиметров до десятков метров, двигавшиеся в межпланетном пространстве и затем упавшие на Землю. В. Небольшие бесформенные тела, которые движутся вокруг Солнца на расстояниях 2,3 – 3,3 а.е. Г. Небесные объекты получившие название хвостатая или косматая звезда

8. Метеориты это

А. Вспыхивающие в земной атмосфере мельчайшие твёрдые частицы, которые вторгаются в неё извне с огромной скоростью Б. Метеороиды размерами от сантиметров до десятков метров, двигавшиеся в межпланетном пространстве и затем упавшие на Землю. В. Небольшие бесформенные тела, которые движутся вокруг Солнца на расстояниях 2,3 – 3,3 а.е. Г. Небесные объекты получившие название хвостатая или косматая звезда

9. Кометы это

А. Вспыхивающие в земной атмосфере мельчайшие твёрдые частицы, которые вторгаются в неё извне с огромной скоростью Б. Метеороиды размерами от сантиметров до десятков метров, двигавшиеся в межпланетном пространстве и затем упавшие на Землю. В. Небольшие бесформенные тела, которые движутся вокруг Солнца на расстояниях 2,3 – 3,3 а.е. Г. Небесные объекты получившие название хвостатая или косматая звезда.

10. Установите соответствие(ученый - его вклад в изучение солнечной системы)

Иоганн Кеплер

А. В 150 г.н.э. в книге «Альмагест» описал геоцентрическую систему мира. Б. На основе наблюдательных данных вывел три эллиптических закона планетных движений. В. Первый использовал телескоп для астрономических исследований и открыл фазы Венеры. Г. Написал книгу, в которой изложил гелиоцентрическую теорию планетных движений. Д. Сформулировал три основных закона движения и закон всемирного тяготения.

Тема 7.2. Эволюция Вселенной

Коды контролируемых компетенций: ОК 01, ОК 02, ОК 03, ОК 04, ОК 05, ОК 07

Форма текущего контроля: тестирование, выполнение лабораторной работы

Вопросы теста

1 вариант

1. Назовите ближайшую к Солнцу планету

- 1) Марс
- 2) Юпитер
- 3) Меркурий
- 4) Венера

2. Какая из перечисленных планет относится к планетам-гигантам?

- 1) Меркурий
- 2) Уран
- 3) Венера
- 4) Земля

3. Какое небесное тело не является планетой?

- 1) Нептун
- 2) Луна
- 3) Венера
- 4) Юпитер

4. Чем звёзды отличаются от планет?

- 1) Только массой
- 2) Только размером
- 3) Только температурой
- 4) Массой, размером и температурой

5. Выберите верное утверждение.

- А. Солнечные пятна возникают под действием концентрированных магнитных полей.
Б. Солнечную корону можно наблюдать во время частичного солнечного затмения.

- 1) Только А
- 2) Только Б
- 3) И А, и Б
- 4) Ни А, ни Б

6. Выберите верное утверждение

- А. Галактика Млечный Путь относится к эллиптическим галактикам.
Б. Известная часть скопления галактик называется Метагалактикой.

- 1) Только А
- 2) Только Б
- 3) И А, и Б
- 4) Ни А, ни Б

7. К каждой позиции первого столбца подберите соответствующую позицию второго.

Классификация планет

- А) Планета-гигант
Б) Планета земной группы
В) Планета-карлик

Названия небесных тел

- 1) Меркурий
- 2) Плутон
- 3) Луна
- 4) Солнце
- 5) Уран

8. На каком расстоянии находится галактика, если скорость её удаления составляет 19600 км/с? Постоянная Хаббла $H=70$ км/(с·Мпк).

9. Во сколько раз сила притяжения Земли к Солнцу больше силы притяжения Меркурия к Солнцу? Масса Меркурия составляет 1/18 массы Земли, а расположен он в 2,5 раза ближе к Солнцу, чем Земля.

2 вариант

1. На какой планете наблюдается парниковый эффект?

- 1) На Марсе
- 2) На Юпитере
- 3) На Венере
- 4) На Меркурии

2. Какая из перечисленных планет относится к планетам земной группы?

- 1) Уран
- 2) Марс
- 3) Сатурн
- 4) Плутон

3. Какая планета состоит из газов?

- 1) Меркурий
- 2) Земля
- 3) Нептун
- 4) Марс

4. Что является источником энергии звёзд?

- А. Цепные ядерные реакции
Б. Термоядерные реакции

- 1) Только А
- 2) Только Б
- 3) И А, и Б
- 4) Ни А, ни Б

5. Каков цикл солнечной активности?

- 1) 1 год
- 2) 5 лет
- 3) 11 лет
- 4) 100 лет

6. Выберите верное утверждение.

- А. Галактика Млечный Путь относится к неправильным галактикам.
Б. Известная часть скопления галактик называется Вселенной.

- 1) Только А
- 2) Только Б
- 3) И А, и Б
- 4) Ни А, ни Б

7. К каждой позиции первого столбца подберите соответствующую позицию второго.

Астрономические события

- А) Опубликована книга Н. Коперника о гелиоцентрической теории строения мира
Б) Открыта планета Нептун
В) Запущен первый ИСЗ

Год открытия

- 1) 1543 ГОД
- 2) 1600 ГОД
- 3) 1846 год
- 4) 1957 год
- 5) 1961 год

8. Какова скорость удаления галактики, находящейся от нас на расстоянии 230 Мпк?

Постоянная Хаббла $H=70$ км/(с·Мпк).

9. На каком расстоянии от центра Земли, выраженном в земных радиусах, силы притяжения космического корабля к Земле и Луне уравниваются друг друга? Масса Луны в 81 раз меньше массы Земли, а расстояние между их центрами в 60 раз больше радиуса Земли. (R_3 — радиус Земли).

3 вариант

1. У какой планеты нет спутника?

- 1) У Урана
- 2) У Юпитера
- 3) У Венеры
- 4) У Земли

2. Какое небесное тело нельзя считать планетой?

- 1) Солнце
- 2) Нептун
- 3) Меркурий
- 4) Уран

3. Какая планета была открыта «На кончике пера» ученого?

- 1) Уран
- 2) Нептун
- 3) Сатурн
- 4) Юпитер

4. Как называется центральная часть Солнца?

- 1) Зона лучистого переноса энергии
- 2) Зона конвекции
- 3) Зона ядерных реакций
- 4) Фотосфера

5. Выберите верное утверждение.

А. Солнечные пятна возникают под действием концентрированных электрических полей.

Б. Солнечную корону можно наблюдать во время полного солнечного затмения.

- 1) Только А
- 2) Только Б
- 3) И А, и Б
- 4) Ни А, ни Б

6. Выберите верное утверждение.

А. Галактика Млечный Путь относится к спиральным галактикам.

Б. Известная часть скопления галактик называется Метагалактика.

- 1) Только А
- 2) Только Б
- 3) И А, и Б
- 4) Ни А, ни Б

7. К каждой позиции первого столбца подберите соответствующую позицию второго.

Классификация планет

- А) Планета-гигант
- Б) Планета земной группы
- В) Планета-карлик

Названия небесных тел

- 1) Нептун
- 2) Солнце
- 3) Церера
- 4) Марс
- 5) Луна

8. На каком расстоянии находится галактика, если скорость её удаления составляет 12600 км/с? Постоянная Хаббла $H=70$ км/(с·Мпк).

9. Во сколько раз сила притяжения Земли к Солнцу меньше силы притяжения Юпитера к Солнцу? Масса Юпитера в 318 раз больше массы Земли, а расстояние от Солнца до Юпитера в 5,2 раза больше, чем расстояние от Солнца до Земли.

Эталоны ответов

вариант	1	2	3	4	5	6	7	8	9
1	3	2	2	4	1	2	512	280 Мпк	В 2,9 раза
2	3	2	3	2	3	4	134	16100 км/с	54 R ₃
3	3	1	2	3	2	3	143	180 Мпк	В 11,8 раза